

2020

الاجتماعيات
للفف الخامس الابتدائي



شرح مفصل للمادة

تعاليل - تعاريف - فراغات

حلول جميع اسئلة الكتاب

رسومات وخرائط توضيحية

إعداد الاستاذ

لطيف سلمان





إن الحياة علمٌ وعملٌ ... والعلم فريضةٌ منذ الازل'
أتنسى؟ قول ربك أن قال...
(اقرأ باسم ربك الذي خلق)



لطيف
f
سلمانه

الوحدة الاولى

الجغرافية



جغرافية وطننا العراق

الفصل الاول/ موقع وطننا العراق

(عالمياً – إقليمياً – محلياً)

س1/ اين يقع وطننا العراق بالنسبة لقارة آسيا؟

ج/ يقع وطننا العراق في الجزء الجنوبي الغربي من قارة آسيا.

س2/ اين يقع العراق بالنسبة للعالم العربي؟

ج/ يحتل وطننا العراق الجزء الشمالي الشرقي بالنسبة للدول العربية.

علل/ لوطننا العراق اهمية كبيرة في حركة النقل العالمي؟

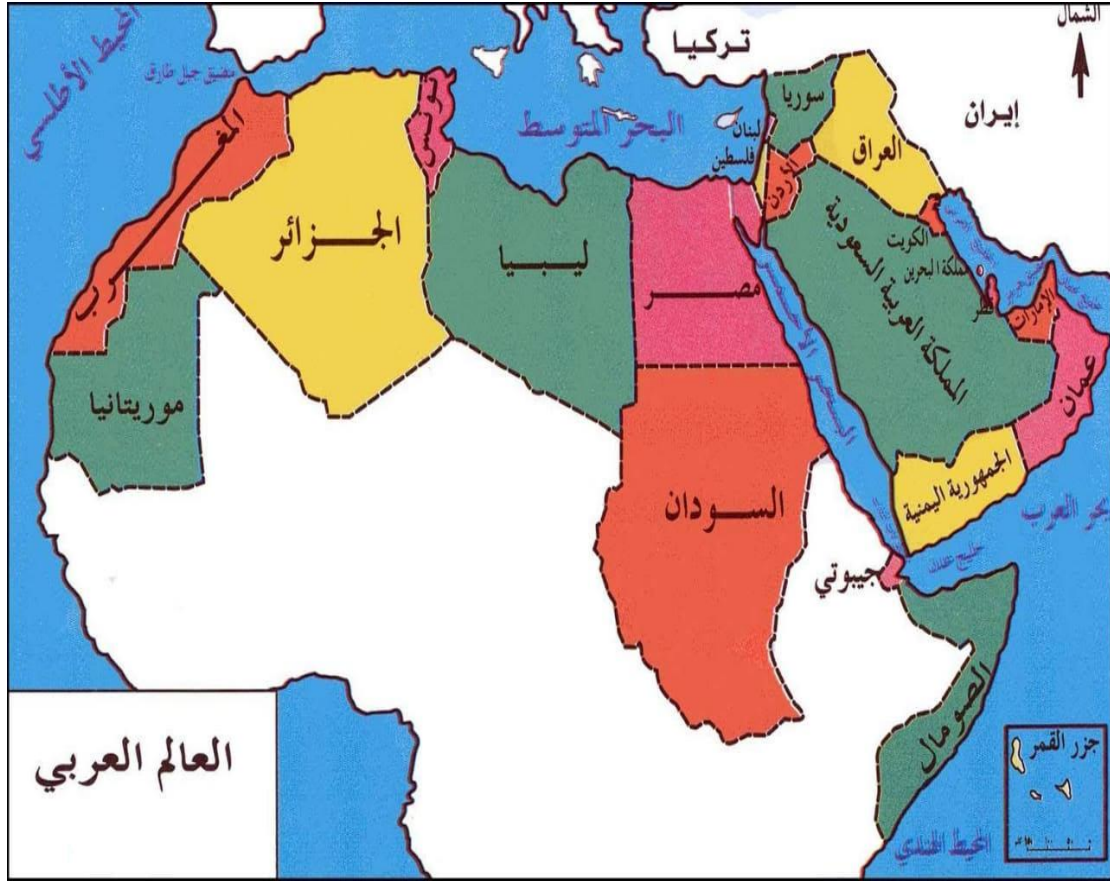
ج/ لأنه يقع في قلب العالم ويعد حلقة وصل بين قارات العالم القديم (آسيا, افريقيا, اوروبا)

س3/ اذكر اسماء الدول التي تجاور وطننا العراق من جميع جهاته؟

1. جهة الشمال: تركيا
2. جهة الشرق: ايران
3. جهة الغرب: سوريا والاردن
4. جهة الجنوب: الكويت والسعودية



خريطة رقم (1): موقع العراق من العالم



خريطة رقم (2): موقع العراق من الدول المجاورة والدول العربية

س4/ اذكر بنقاط اهمية موقع وطننا العراق؟

ج/

- 1- يقع وطننا العراق في قلب العالم ويعد حلقة وصل بين قارات العالم القديم (آسيا، أفريقيا، أوروبا).
- 2- يعد وطننا العراق قديماً وحديثاً معبراً لطرق النقل والتجارة الدولية.

أجوبة النشاط صفحة (7) بالكتاب

(1) راجع جواب السؤال الثالث.

(2) ما اسم المنفذ البحري الذي يطل عليه العراق من جهة الجنوب؟ **الخليج العربي**

(3) اذكر اسم القارة التي يقع فيها العراق؟ **آسيا**

التقسيمات الإدارية

س/ كم يبلغ عدد محافظات وطننا العراق وممن تتكون إدارياً؟

ج/ عددها ثمان عشرة محافظة وكل واحدة منها تتكون من عدة اقصية ونواحي.



خريطة رقم (3): تقسيمات العراق الإدارية

المحافظة: هي وحدة إدارية تتميز بخصائص جغرافية طبيعية وبشرية تميزها عن المحافظات الأخرى وتضم عدداً من الأقسية والنواحي والقرى.

القضاء: هي منطقة إدارية صغيرة تتبع المحافظة.

الناحية: هي منطقة إدارية تتبع القضاء ثم المحافظة وهي اصغر وحدة إدارية.

أجوبة النشاط صفحة (9) بالكتاب

1) ما اسم المحافظة التي تسكن فيها؟ **ج/ البصرة.**

2) ما اسم المحافظة التي تجاور محافظتك؟ **ج/ ميسان, ذي قار.**

3) ماهي اكبر المحافظات من حيث المساحة؟ **ج/ الانبار.**

4) ما هي اصغر المحافظات من حيث المساحة؟ **ج/ كربلاء.**

5) في اي جهة تقع محافظتك؟ **ج/ تقع جنوب وطننا العراق.**

س/ تختلف المحافظات فيما بينها. وضح ذلك؟

س/ بماذا تختلف المحافظات فيما بينها؟

ج/ تختلف المحافظات فيما بينها من حيث:

1. الموقع الجغرافي

2. المساحة

3. طبيعة السطح

4. عدد السكان

5. النشاط الاقتصادي

س/ ان كل محافظة قابلة للتغيير. وضح ذلك؟

س/ لماذا كل محافظة قابلة للتغيير من حيث المساحة ؟

ج/ ان مساحة المحافظة تتغير وفق التقسيمات السياسية والإدارية والتطورات الحضارية اما بالاتساع او التقلص.

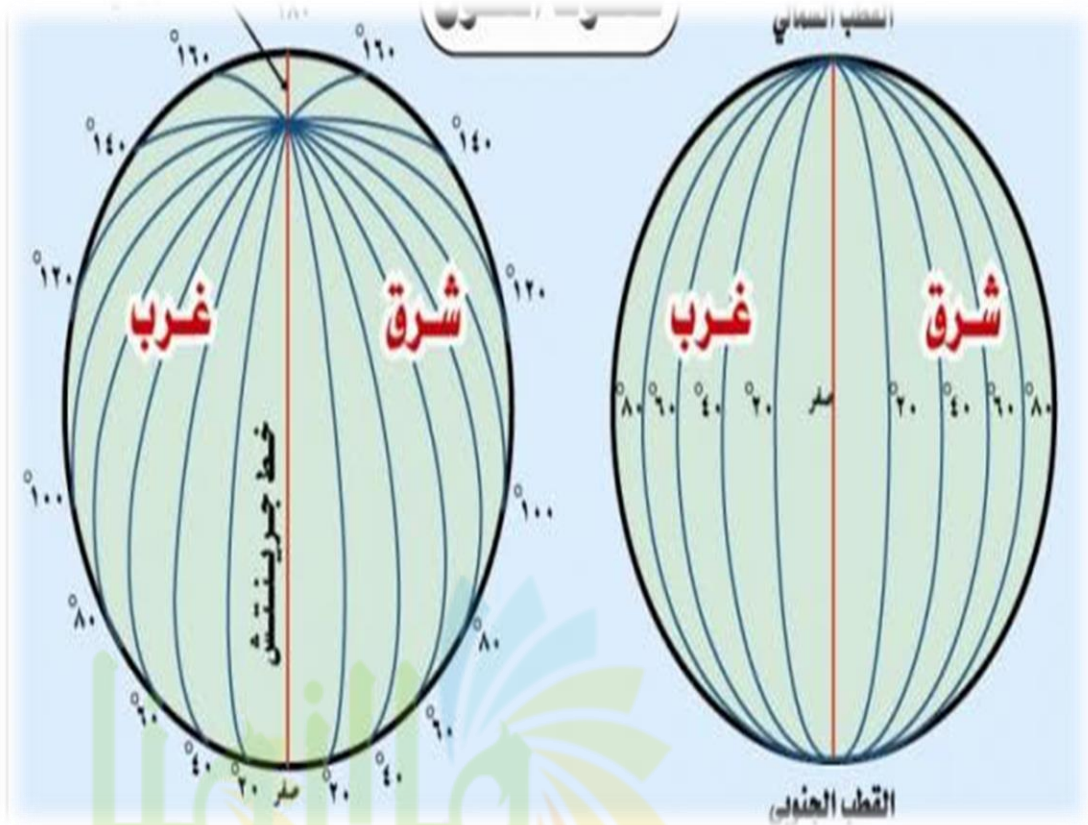
الموقع الفلكي والنسبي لوطننا العراق

الموقع الفلكي: هو موقع البلد من خطوط الطول ودوائر العرض.

خطوط الطول: هي شبكة وهمية من الخطوط المتقاطعة وتكون عمودية وضعها الجغرافيون للاستفادة منها في تحديد الاوقات (التوقيتات) بين الدول ويبلغ عددها 360 خطاً.

س/ ما هي الفائدة من خطوط الطول التي وضعها العلماء الجغرافيون؟

ج/ من اجل تحديد موقع ما على سطح الارض ويستفاد منها في تحديد الاوقات بين الدول وخط الصفر فيها هو خط كرينيش.

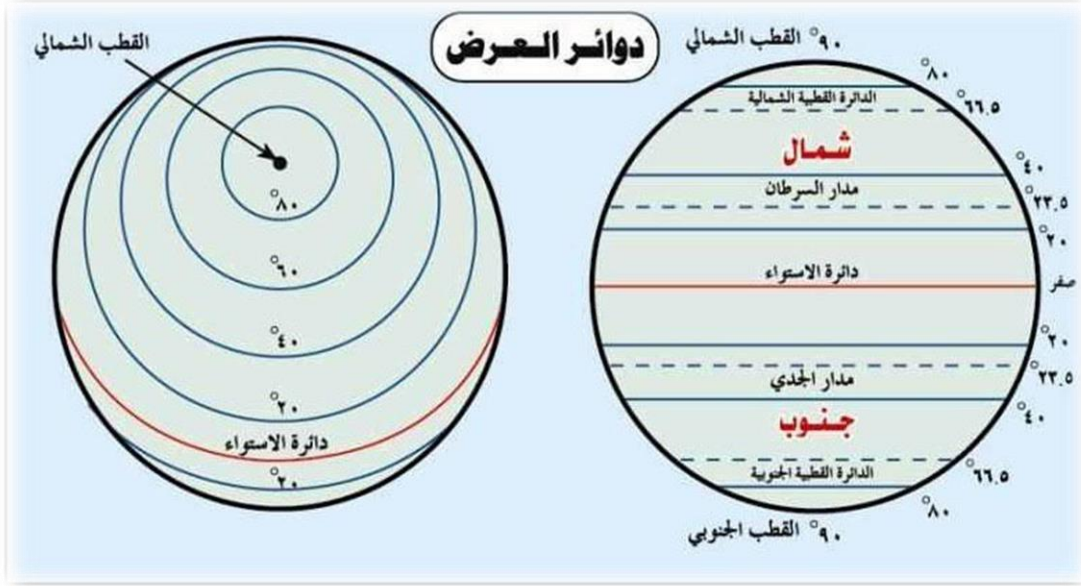


شكل (1): خطوط الطول

دوائر العرض: هي خطوط على شكل انصاف دوائر يبلغ عددها 180 خطاً يستفاد منها في تحديد نوع المناخ بين الدول وخط الاستواء هو خط الصفر فيها.

س/ ماذا يستفاد من دوائر العرض؟

ج/ من اجل تحديد نوع المناخ بين دول العالم.



شكل (2): دوائر العرض

اجوبة نشاط (1) صفحة 12

تأمل الخريطة رقم (4) ثم اجب على الاسئلة الاتية:

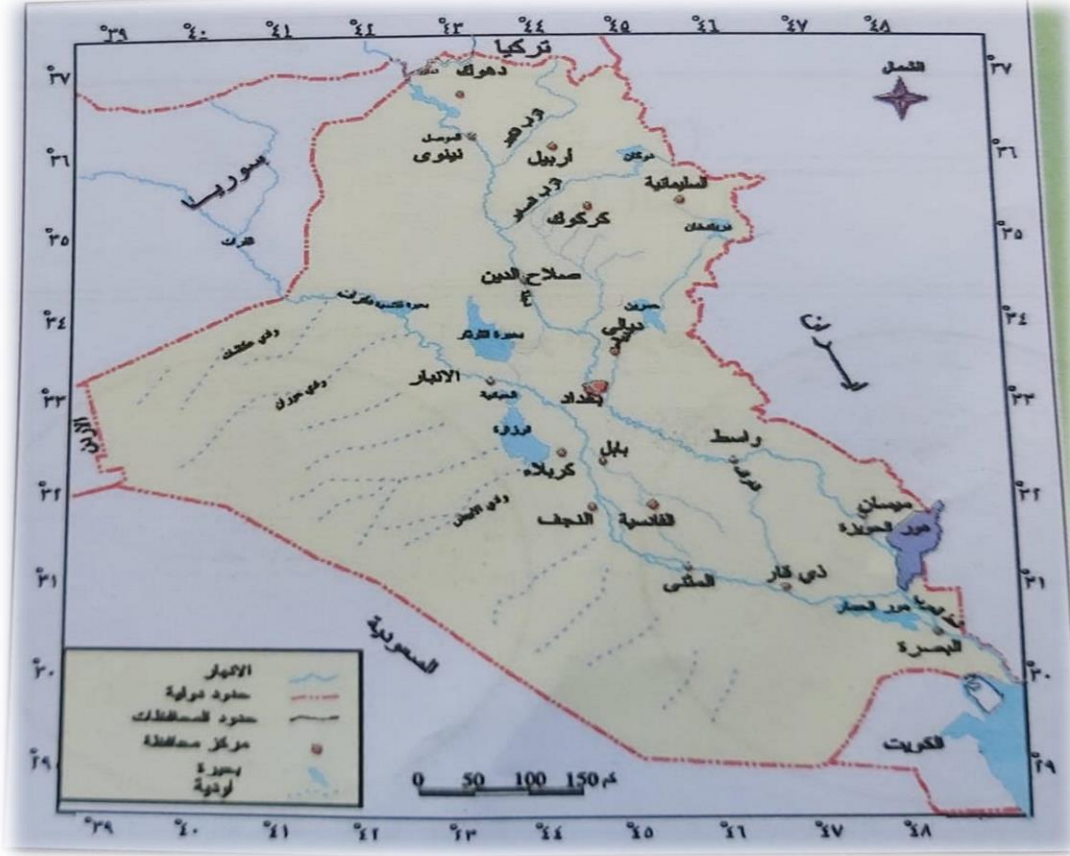
(1) بين اي خطي طول يمتد وطننا العراق؟ ج/ (39- 48) شرقاً.

(2) حدود دائرتي العرض اللتين ينحصر بينهما العراق؟ ج/ (29 – 37) شمالاً.

تعلمت

س/ اين يقع العراق حسب الموقع الفلكي؟

ج/ يقع وطننا العراق بين خطي طول (39 – 48) شرقاً اي انه يقع شرق خط كرينتش وبين دائرتي عرض (29 – 37) شمالاً اي شمال خط الاستواء وهذا ما يسمى بالموقع الفلكي لوطننا العراق.

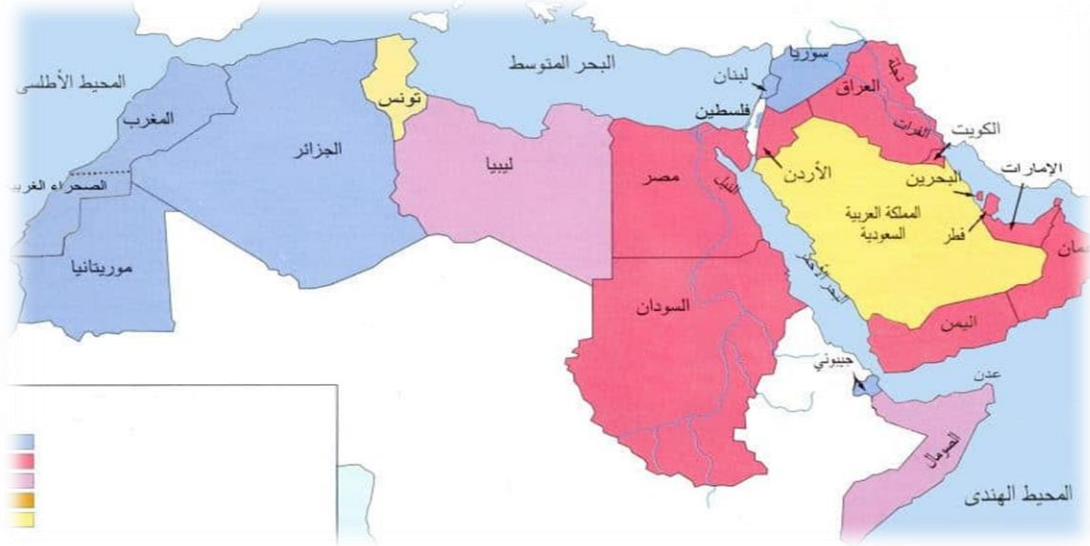


خريطة رقم (4): خريطة العراق الإدارية موضحة عليها شبكة خطوط الطول ودوائر العرض

اجوبة نشاط (2) صفحة 13

لاحظ الخريطة رقم (5) ثم اجب عن كل مما يأتي:

- 1) حدد موقع العراق بالنسبة للدول العربية؟ ج/ الجزء الشمالي الشرقي
- 2) ماهي اكبر واصغر الدول العربية التي تجاور وطننا العراق من حيث المساحة؟ ج/ اكبرها السعودية واصغرها الكويت.
- 3) حدد اكبر واصغر الدول العربية من حيث المساحة؟ ج/ اكبرها الجزائر واصغرها البحرين
- 4) حدد ابرز المسطحات المائية التي تطل عليها الدول العربية؟ البحر المتوسط، البحر الاحمر، المحيط الهندي، المحيط الاطلسي، الخليج العربي.



خريطة رقم (5): الدول العربية

نشاط

لاحظ الخريطة رقم (6) واجب عن الاسئلة الآتية:

- 1) الى اي قارة تنتمي الدول ذات اللون الاخضر؟ ج/ قارة آسيا
- 2) في اي قارة توجد الدول ذات اللون الاصفر؟ ج/ قارة افريقيا
- 3) الى اي مجموعه ينتمي وطننا العراق؟ مجموعة الدول العربية التي تقع في الجانب الآسيوي



خريطة رقم (6): توضح الدول العربية ضمن قارتي اسيا وافريقيا

حل اسئلة الفصل الاول

س1/

دول عربية تقع في الجانب الاسيوي:

العراق/ سوريا/ لبنان/ فلسطين/ الاردن/ الكويت/ السعودية/ البحرين/ قطر/ اليمن/ الامارات.

دول عربية تقع في الجانب الافريقي:

السودان/ مصر/ الصومال/ ليبيا/ جيبوتي/ المغرب/ تونس/ موريتانيا/ الجزائر.

دول تطل على البحر المتوسط:

ليبيا/ مصر/ سوريا/ لبنان/ الجزائر/ فلسطين/ المغرب/ تونس.

دول تطل على الخليج العربي:

العراق/ السعودية/ الامارات/ قطر/ الكويت/ البحرين.

س2/ نشاط مدرسي يترك للطالب.

س3/ ضع كلمة (صح) امام العبارة الصحيحة وكلمة (خطأ) امام العبارة الخاطئة:

(1) يجاور وطننا العراق ايران من جهة الشرق. صح

(2) ينتمي العراق الى الدول العربية التي تقع في الجانب الافريقي. خطأ

(3) رغم تنوع البيئة وتنوع العادات والتقاليد تبقى هويتنا واحدة على مر الزمن. صح

(4) يمتد العراق بين خطي طول (39 – 48) شرقاً. صح

(5) نستفيد من دوائر العرض في تحديد الاتجاهات. خطأ

س4/ استعن بما تعلمته لملأ الفراغات التالية:

(1) يمتد وطننا العراق بين دائرتي عرض 37-29 شمالاً وخطي طول 48-39 شرقاً.

(2) عدد محافظات وطننا العراق 18.

(3) يجاور وطننا العراق من جهة الشمال تركيا.

4) يطل العراق على الخليج العربي من خلال محافظة البصرة.

س5/ نشاط مدرسي يترك للطالب.

س6/ اجب باختصار عن اهمية الموقع الجغرافي لوطننا العراق؟

1) يقع العراق في قلب العالم ويعد حلقة وصل بين قارات العالم القديم (اسيا واوروبا وافريقيا).

2) يعد العراق قديماً وحديثاً معبراً لطرق النقل والتجارة الدولية.

س7/ ماهي ابرز الاقضية والنواحي التابعة لمحافظةك؟

اسم المحافظة: البصرة

الاقضية: قضاء الزبير, قضاء القرنة, قضاء ابي الخصيب, قضاء الفاو, قضاء شط العرب.

النواحي: ناحية الدير, ناحية سفوان, ناحية الشرش, ناحية النشوة, ناحية الهارثة.



الفصل الثاني

جغرافية العراق

أولاً: الظواهر الطبيعية

س/ ماذا تشمل الظواهر الطبيعية؟ , س/ ما هي الظواهر الطبيعية؟

ج/ (1) السطح

(2) المناخ

(3) النبات الطبيعي

(4) الموارد المائية

الظواهر التضاريسية: هي التنوع في شكل التضاريس وتشمل الجبال والهضاب والسهول والوديان وغيرها.

س/ ما هي اسباب تنوع التضاريس في وطننا العراق؟ , س/ تنوع شكل التضاريس في وطننا العراق؟

ج/ بسبب الامتداد الكبير لوطننا العراق من الشمال الى الجنوب ومن الشرق الى الغرب.

نشاط صفحة 19

لاحظ الخريطة رقم (7) التي تمثل تضاريس العراق ثم اجب على الاسئلة التالية:

(1) هل تضاريس العراق متشابهة في جميع انحاءه؟

ج/ كلا, تختلف التضاريس من منطقة لأخرى بسبب الامتداد الكبير لوطننا العراق.

(2) اذكر انواع التضاريس الموجودة في الخريطة؟

ج/ المنطقة الجبلية, المنطقة المتموجة, الهضبة الغربية, السهل الرسوبي.

(3) اين يقع كل واحد منها؟

أ- المنطقة الجبلية: القسم الشمالي الشرقي من وطننا العراق

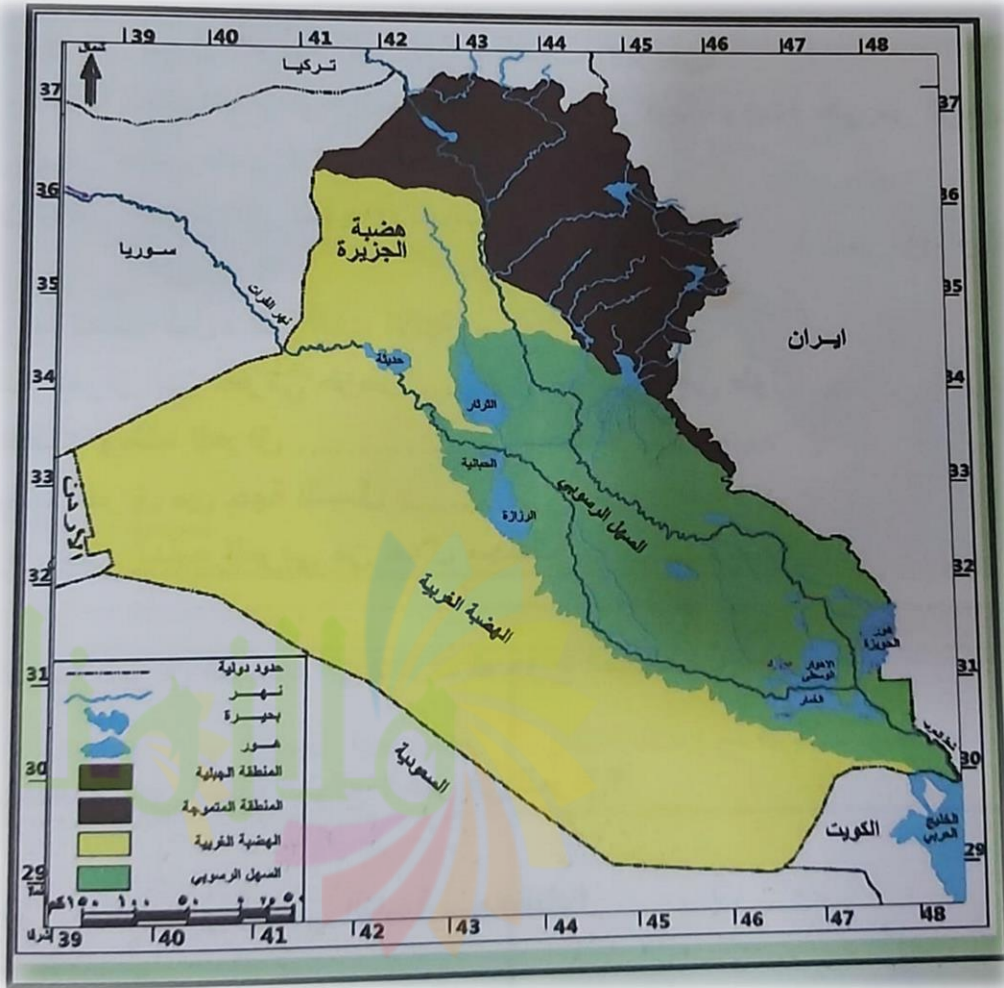
- ب- المنطقة المتموجة: الجنوب الغربي من المنطقة الجبلية
 ت- منطقة الهضبة الغربية: الاقسام الغربية والجنوبية الغربية من وطننا العراق
 ث- السهل الرسوبي: وسط وجنوب العراق

(4) قارن بين تضاريس سطح العراق في شماله وجنوبه؟

تضاريس الجنوب	تضاريس الشمال
منطقة مستوية وتتميز بالانبساط التام في معظم اراضيها وتربته خصبة, يوجد فيها العديد من الانهار والاهوار والبحيرات وتشكل 24% من مساحة وطننا العراق	منطقة جبلية يوجد فيها وديان وسهول وتشغل 6% من مساحة وطننا العراق

(5) اي التضاريس تشغل مساحة اكبر؟

ج/ الهضبة الغربية وتشغل 55% من مساحة وطننا العراق.



خارطة رقم (7): تضاريس العراق

الإقسام التضاريسية في العراق

1) المنطقة الجبلية

2) المنطقة المتموجة

3) السهل الرسوبي

4) الهضبة الغربية

أولاً: المنطقة الجبلية

س/ اين تقع المنطقة الجبلية؟

ج/ تقع المنطقة الجبلية في القسم الشمالي الشرقي من وطننا العراق وتشكل 6% من مساحة العراق.

س/ اذكر حدود المنطقة الجبلية؟ , ماهي حدود المنطقة الجبلية؟

ج/ يحدها من جهة الشمال الشرقي كل من تركيا وايران وتكون امتداد السلاسل الجبلية من الشمال الشرقي الى الجنوب الغربي.

حصاروست: هي اعلى سلسله جبلية في المنطقة الجبلية من وطننا العراق.

قمة جبل هلكرد: هي اعلى قمة جبلية في سلسلة جبال حصاروست ويبلغ ارتفاعها 3600 م.

س/ ما هي اشهر سهول المنطقة الجبلية؟

ج/ 1) سهل السندي في محافظة دهوك

2) سهل رانية في محافظة اربيل

3) سهل شهرزور في محافظة السليمانية

عرف ما يأتي:

1) **سهل السندي:** من اشهر سهول المنطقة الجبلية يقع في محافظة دهوك قضاء زاخو.

(2) سهل شهرزور: من اشهر سهول المنطقة الجبلية يقع في محافظة السليمانية.

(3) سهل رانية: من اشهر سهول المنطقة الجبلية يقع في محافظة اربيل.



سلسلة جبال حصاروست



سهل السندي

معلومات

الالوان على الخارطة:

- لون المنطقة الجبلية: بني
- لون المنطقة المتموجة: بني فاتح
- لون منطقة الهضبة الغربية: اصفر
- لون الاهوار: ازرق متقطع
- لون الانهار والبحيرات: ازرق

نشاط صفحة 20

لاحظ الخريطة رقم (7) والتي تمثل تضاريس المنطقة الجبلية من وطننا العراق ثم اجب على الاسئلة التالية:

- (1) ماذا يمثل اللون البني في الخريطة؟ ج/ الجبال
- (2) في اي جهة تقع المنطقة الجبلية؟ ج/ القسم الشمالي الشرقي من وطننا العراق

- (3) ما هو امتداد السلاسل الجبلية؟ ج/ من الشمال الشرقي الى الجنوب الغربي
- (4) ماذا تسمى اعلى قمة جبلية؟ ج/ قمة جبل هلكرد
- (5) ما ابرز السهول الموجودة فيها؟ ج/ السندي, رانية, شهرزور
- (6) ماهي المحافظات التي تشكل المنطقة الجبلية؟ ج/ اربيل, السليمانية, دهوك
- (7) كم تشغل المنطقة الجبلية من مساحة العراق الكلية؟ ج/ تشغل 6% من مساحة العراق

ثانياً: المنطقة المتموجة

س/ اين تقع المنطقة المتموجة؟

ج/ تقع المنطقة المتموجة الى الجنوب الغربي من المنطقة الجبلية واهم مرتفعاتها حميرين ومكحول وسنجار وتشغل 5% من مساحة وطننا العراق.

س/ ماهي مميزات المنطقة المتموجة؟

- ج/ (1) مرتفعاتها اقل ارتفاعاً من المنطقة الجبلية
- (2) تنتشر فيها العديد من السهول اهمها سهل مخمور وسهل اربيل
- (3) تنتشر فيها العديد من الهضاب اهمها هضبة كركوك وهضبة الموصل

عرف ما يأتي:

حميرين/ مكحول/ سنجان: وهي من اهم المرتفعات الموجودة في المنطقة المتموجة من وطننا العراق.

مخمور: وهو من اهم سهول المنطقة المتموجة في وطننا العراق.

سهل اربيل: وهو من اهم سهول المنطقة المتموجة في وطننا العراق.

نشاط صفحة 21

لاحظ الخريطة رقم (7) التي تمثل تضاريس المنطقة المتموجة من العراق ثم اجب عن الاسئلة الاتية:

- (1) اين تقع المنطقة المتموجة بالنسبة للمنطقة الجبلية؟ ج/ في الجنوب الغربي من المنطقة الجبلية.

(2) ماهي نسبة المنطقة المتموجة من مساحة وطننا العراق؟ ج/ تشغل 15% من مساحة العراق.

(3) لماذا تم تكوين المنطقة المتموجة بلون فاتح عن المنطقة الجبلية؟ ج/ من اجل تمييزها.

(4) ما ابرز مرتفعات المنطقة المتموجة؟ ج/ حميرين, مكحول, سنجار.

(5) ما ابرز السهول التي تقع في المنطقة المتموجة؟ ج/ سهل مخمور, سهل اربيل.



تلال مكحول



تلال حميرين

ثالثاً: السهل الرسوبي

س/ اين تقع منطقة السهل الرسوبي؟

ج/ تقع منطقة السهل الرسوبي وسط وجنوب العراق بين المنطقة المتموجة شمالاً والهضبة الغربية غرباً والخليج العربي جنوباً وتشغل 24% من مساحة وطننا العراق.

س/ ماهي مميزات منطقة السهل الرسوبي؟

1. خصوبة تربتها.
2. وفرة مياهها.
3. سهولة التنقل فيها.
4. توجد فيها العديد من الظواهر الطبيعية كالأنهار (دجلة والفرات والبحيرات والاهوار).

5. تحتوي على العديد من الموارد الاقتصادية كالنفط والغاز الطبيعي ومعادن اخرى.

نشاط صفحة 22

لاحظ الخريطة رقم (7) والتي تمثل تضاريس السهل الرسوبي من وطننا العراق ثم اجب عن الاسئلة الاتية:

(1) ماهي حدود منطقة السهل الرسوبي في العراق؟

ج/ تقع في وسط وجنوب العراق بين المنطقة المتموجة شمالاً والهضبة الغربية غرباً والخليج العربي جنوباً.

(2) ما اهم الظواهر الطبيعية في منطقة السهل الرسوبي؟

ج/ الانهار (دجلة والفرات وروافدهما) والبحيرات والاهوار.

(3) ماهي النسبة التي تشغلها منطقة السهل الرسوبي من مساحة وطننا العراق؟

ج/ تشغل 24% من مساحة وطننا العراق.

(4) لماذا تعد منطقة السهل الرسوبي من افضل المناطق التضاريسية؟ علل

ج/ بسبب خصوبة تربتها ووفرة مياهها وسهولة التنقل بين جهاتها كما انها تحتوي على العديد من الموارد الاقتصادية كالنفط والغاز.



جانب من المنشآت النفطية

جانب من نهر دجلة

رابعاً: منطقة الهضبة الغربية

س/ اين تقع منطقة الهضبة الغربية؟

ج/ تقع منطقة الهضبة الغربية غرب وطننا العراق وهي اكبر المناطق التضاريسية اذ تشغل 55% من مساحة العراق.

س/ ماهي اهم الظواهر الطبيعية لمنطقة الهضبة الغربية؟

ج/ (1) سيادة الطابع الصحراوي فيها

(2) تحتوي على العديد من الثروات الاقتصادية كالفسفات والصخور التي تدخل في صناعة الاسمنت والزجاج.

نشاط صفحة 23

لاحظ الخريطة رقم (7) التي تمثل تضاريس منطقة الهضبة الغربية من وطننا العراق ثم اجب عن الاسئلة الاتية:

(1) ماهي حدود منطقة الهضبة الغربية في العراق؟

ج/ غرب وطننا العراق

(2) ماهي الظاهرة الطبيعية التي تتميز بها الهضبة الغربية عن غيرها من المناطق الاخرى؟


ج/ الطابع الصحراوي

(3) ماهي اهم الثروات الطبيعية التي توجد في الهضبة الغربية؟

ج/ الفوسفات والزجاج والصخور

(4) ماهي النسبة التي تشغلها منطقة الهضبة الغربية؟

ج/ تشغل 55% من مساحة العراق



احدى مناطق الهضبة الغربية



صناعة الاسمنت

معلومات اثرانية

س/ لماذا تعتبر المنطقة الجبلية في شمال العراق مناطق سياحية كبيرة؟

ج/ بسبب اعتدال مناخها صيفا ووجود مناظر طبيعية جميلة مثل الشلالات والجبال والحدائق اذ يسافر اليها الكثير من الناس لغرض الراحة والاستجمام.

س/ تعد منطقة السهل الرسوبي من اكثر المناطق جذبا للسكان؟ وضح ذلك

ج/ وذلك بسبب:

1. انبساط سطحها
2. وفرة مياه البحيرات والانهار والاهوار
3. خصوبة تربتها
4. تنوع النشاط الاقتصادي فيها
5. تعتبر مناطق سياحية (الاهوار)
6. وجود ثروة اقتصادية مهمة (الاسماك والطيور)

نشاط صفحة 25

- 1) لماذا يسافر الناس من جنوب وطننا الى شماله في فصل الصيف؟
ج/ بسبب اعتدال المناخ صيفا في المناطق الشمالية اذ يذهبون لغرض الراحة والاستجمام.
- 2) ايهما اشد حرارة المناطق الصحراوية ام المناطق الجبلية؟
ج/ المناطق الصحراوية
- 3) اي المناطق اكثر غزارة في الامطار الجبال ام الصحراء؟
ج/ الجبال
- 4) هل يختلف النبات الطبيعي الذي ينمو في المناطق الجبلية عن النبات الطبيعي الذي ينمو في الصحراء؟
ج/ نعم يختلف اذ تتحكم فيه نسبة الامطار ونوعية التربة والعوامل الطبيعية والتضاريس الاخرى.



عناصر المناخ

1- درجة الحرارة

2- الامطار

درجة الحرارة

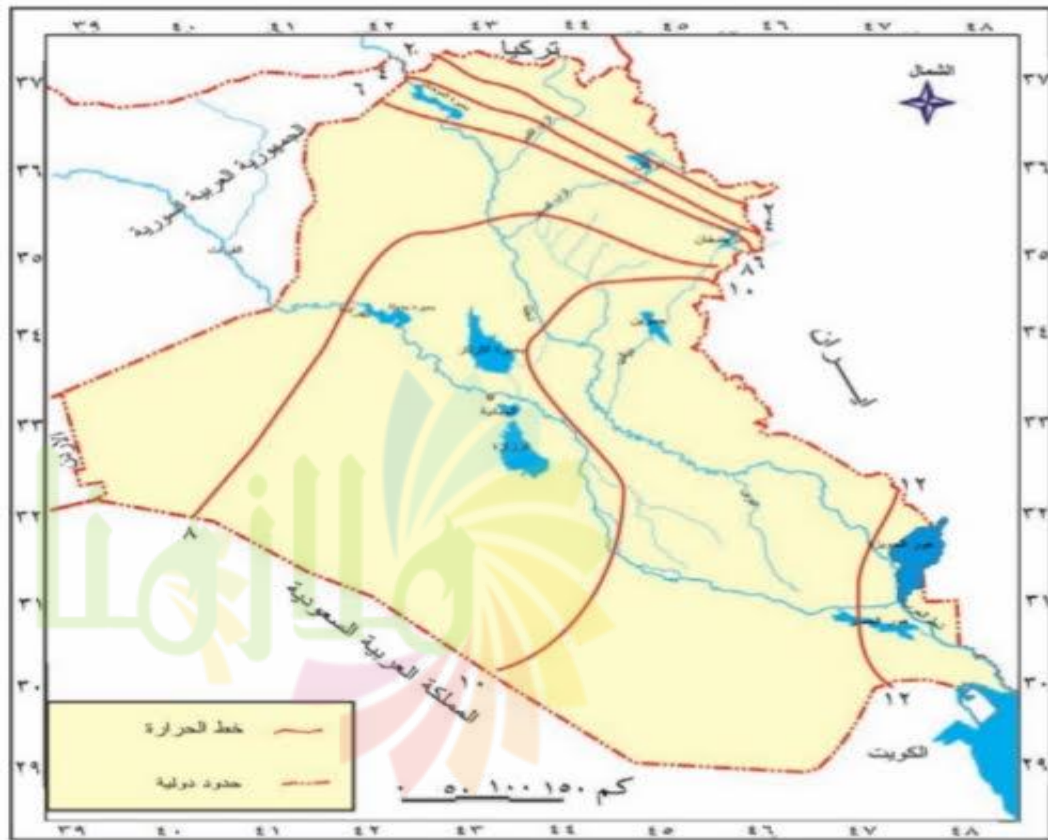
درجة الحرارة: هي احد عناصر المناخ الرئيسية وتختلف من منطقة لأخرى ومن شهر لأخر ومن فصل لأخر.

علل/ تختلف درجة الحرارة من منطقة لأخرى؟

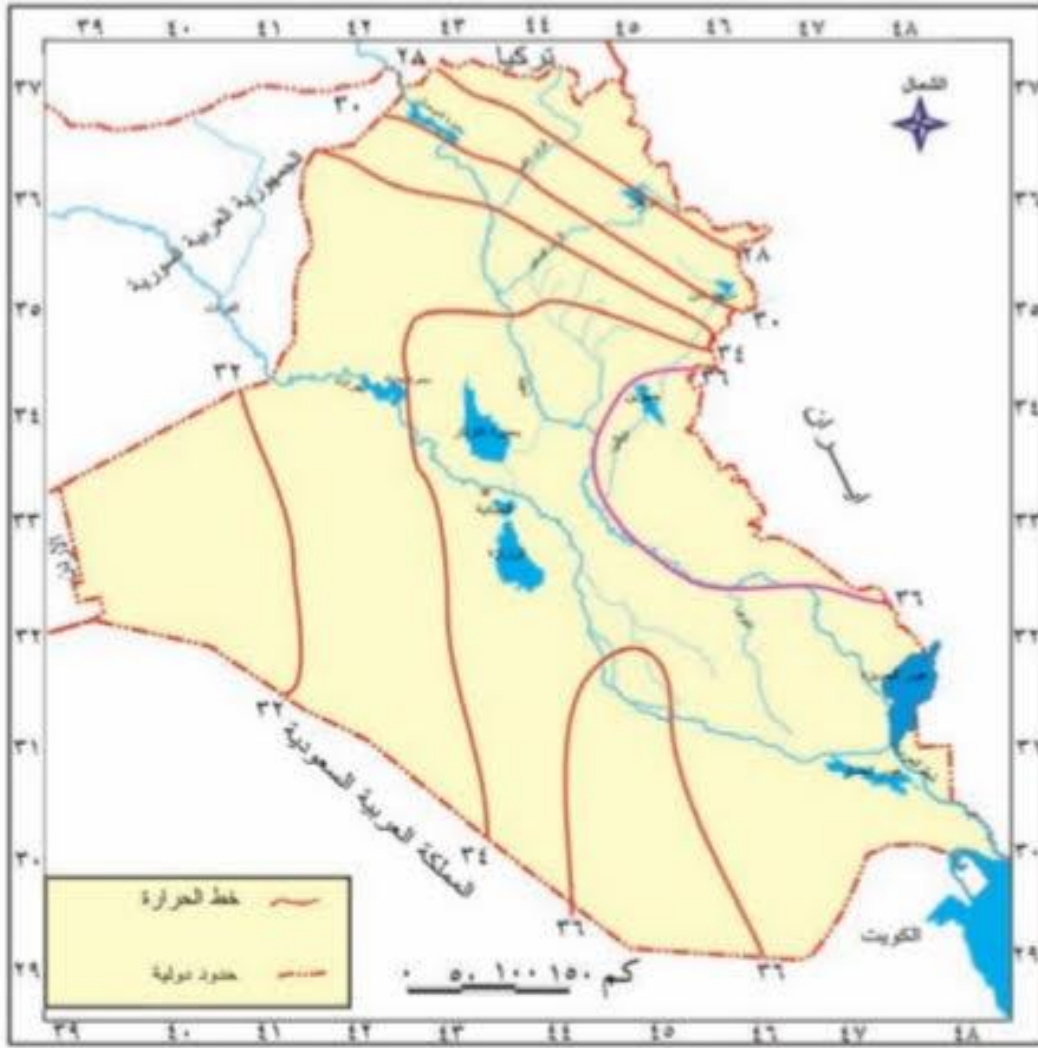
ج/ بسبب التضاريس وكمية سقوط الامطار.

علل/ ان درجة الحرارة تكون اكثر اعتدالا في المنطقة الجبلية مقارنة بالمناطق الجنوبية في فصل الصيف؟

ج/ بسبب تضاريس المنطقة الشمالية المرتفعة والمتمثلة بالجبال العالية.



خريطة رقم (8): درجات الحرارة في فصل الشتاء



خريطة رقم (9): درجات الحرارة في فصل الصيف

أجب عن الاسئلة الاتية:

- 1) هل تتشابه درجات الحرارة في جميع المدن العراقية؟ ج/ لا تتشابه.
- 2) هل هنالك فرق في درجة الحرارة بين مدن شمال وجنوب العراق؟ ج/ نعم، لأنه كلما اتجهنا جنوبا نقترّب من خط الاستواء وتزداد درجات الحرارة.

الامطار

الامطار: هي احد عناصر المناخ الرئيسية تتأثر بتضاريس العراق اذ يزداد سقوطها في المناطق الجبلية مقارنة بالمناطق الاخرى ويقتصر سقوط الامطار على فصل الشتاء في وطننا العراق.



خريطة رقم (10): معدلات سقوط الامطار في العراق

نشاط صفحة 27

لاحظ الخريطة رقم (10) التي تبين الامطار في العراق ثم اجب عن الاسئلة الاتية:

- (1) ما اسم فصل سقوط الامطار في العراق؟ ج/ فصل الشتاء.
- (2) هل ان معدل سقوط الامطار متساوي في جميع انحاء العراق؟ ج/ غير متساوي.
- (3) هل هنالك فرق في معدل سقوط الامطار بين المناطق الجبلية والمناطق الصحراوية؟ ج/ نعم.
- (4) هل للتضاريس تأثير على كميات الامطار الساقطة؟ ج/ نعم.
- (5) اي الاقسام التضاريسية يقل فيها سقوط الامطار؟ ج/ الصحراوية.

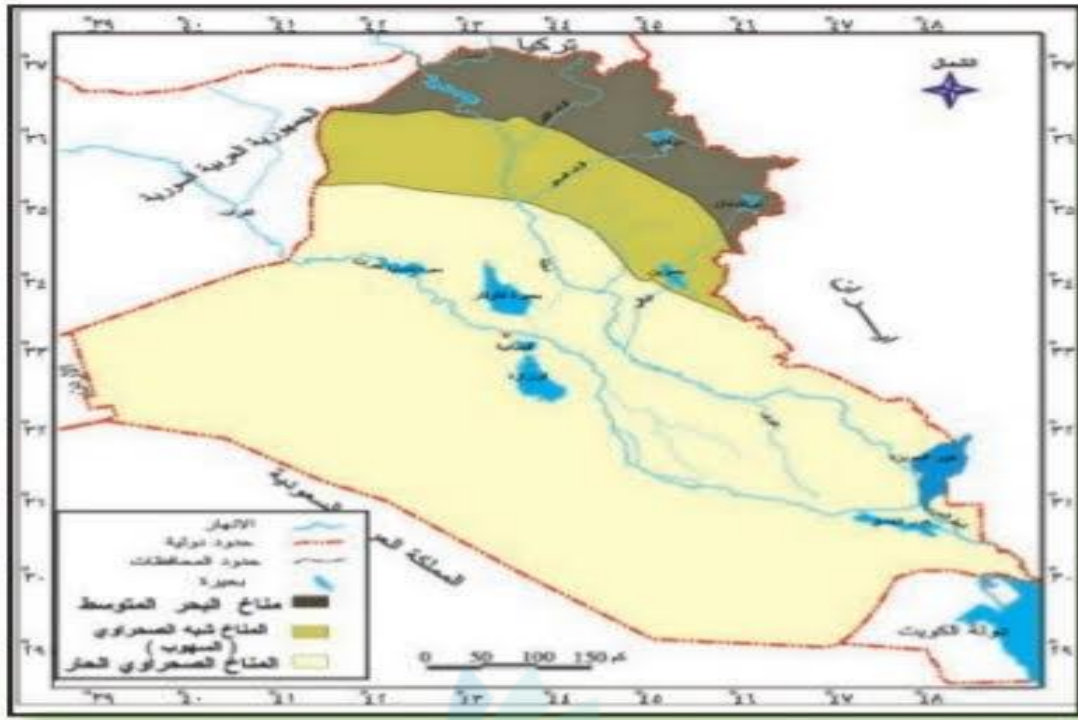
الاقليم المناخية في العراق

س/ ماهي العوامل التي تحدد اقسام المناخ؟

- ج/ 1) التضاريس
2) عناصر المناخ
3) اختلاف درجات الحرارة
4) كميات سقوط الامطار

س/ ماهي الاقسام المناخية في وطننا العراق؟

- ج/ 1) مناخ البحر المتوسط
2) مناخ شبه الصحراوي (السهب)
3) المناخ الصحراوي الحار



خريطة رقم (11): الاقاليم المناخية في العراق

نشاط صفحة 28

يترك للطالب

- ايهما ابرد واحر الشهور في وطننا العراق؟ ج/ ابرد الشهور/ كانون الثاني
احر الشهور/ اب, تموز.
اي الاقاليم المناخية توجد فيها محافظتك؟ ج/ محافظة البصرة, المناخ
الصحراوي الحار.

النبات الطبيعي

النبات الطبيعي: هو ذلك النبات الذي ينمو من تلقاء نفسه دون تدخل الانسان في انباته.

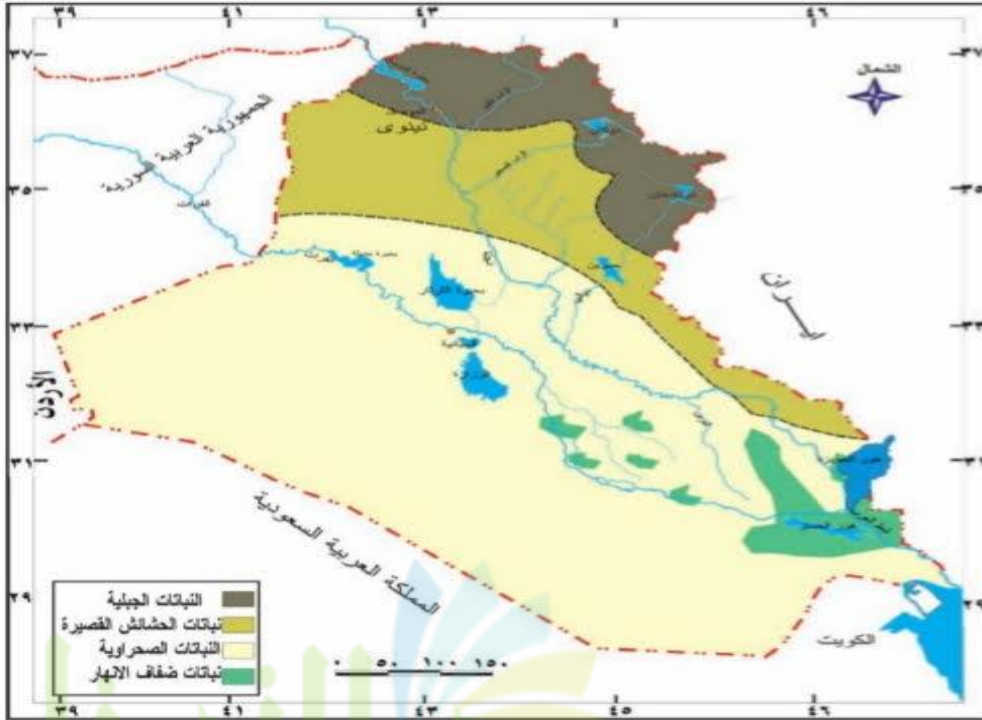
س/ ماذا يحتاج النبات لكي ينمو؟

ج/ يحتاج الى تربة خصبة ومياه وفيرة.

علل/ تنوع النبات الطبيعي في وطننا العراق؟

ج/ بسبب تنوع المناخ (درجة الحرارة, كمية الامطار) وتنوع مظاهر السطح

(التضاريس).



خريطة رقم (12): النبات الطبيعي في العراق

س/ ماهي انواع النباتات الطبيعية في وطننا العراق؟

ج/ (1) نباتات مثمرة وغير مثمرة مثل الاشجار والشجيرات.

(2) نباتات تتحمل العطش وقلة المياه كالنباتات الصحراوية.

(3) نباتات تكون غذاء للإنسان او لأغراض صناعية.

س/ ماهي اقسام النباتات الطبيعية في وطننا العراق؟

ج/

- 1) نباتات المناطق الجبلية
- 2) نباتات الحشائش القصيرة
- 3) نباتات ضفاف الانهار
- 4) نباتات المنطقة الصحراوية

1) نباتات المناطق الجبلية

موقعها: تقع هذه النباتات في المنطقة الشمالية وتتمثل بغابات الجبال العالية.
مميزاتها: تعد اكنف مناطق العراق انباتاً بسبب وفرة الامطار واعتدال المناخ.
نباتاتها: البلوط والجوز واللوز والصنوبر.

2) نباتات الحشائش القصيرة

موقعها: في الاراضي شبه الجبلية (المتوجة) والاقسام الشرقية من السهل الرسوبي.
نباتاتها: مجموعة متنوعة من الحشائش.

علل/ تعد نباتات الحشائش القصيرة من اهم مناطق الرعي؟

ج/ بسبب تنوع النباتات الطبيعية وسهولة التنقل فيها.

3) نباتات ضفاف الانهار

موقعها: تتواجد بالقرب من مناطق الالهوار والمستنقعات والانهار والمناطق القريبة منها.

نباتاتها: تتكون من اشجار وشجيرات وحشائش اهمها الغرب والصفصاف والقصب والبردي.

4) نباتات المنطقة الصحراوية

موقعها: الهضبة الغربية

نباتاتها: الشوك والعاقول والصبير

علل/ تتميز نباتات المنطقة الصحراوية بقدرتها على تحمل الظروف القاسية والصفصاف؟

ج/ بسبب قلة الامطار وارتفاع درجة الحرارة.

س/ ماهي اهمية النبات الطبيعي؟

ج/

(1) يلطف الجو

(2) يمنع انجراف التربة

(3) يعطي جمالاً للبيئة

(4) يدخل في الكثير من الصناعات الغذائية والصناعية

(5) يستخدم لرعي الحيوانات



الموارد المائية

المياه: هي المصدر الاساسي والحيوي لإدامة الحياة بكافة انواعها.

س/ ماهي مصادر المياه في وطننا العراق؟

ج/

مياه الامطار والثلوج

المياه السطحية

المياه الجوفية

س/ ماهي المياه السطحية في وطننا العراق؟

ج/ نهري دجلة والفرات وروافدهما وشط العرب والبحيرات والاهوار.

المياه السطحية: هي المياه التي تجري على سطح الارض وتشمل الانهار والروافد والبحيرات.

المياه الجوفية: هي المياه المخزونة في باطن الارض وتخرج على شكل ابار وعيون.



خريطة رقم (13): الموارد المائية في العراق

س/ ماهي اهم الموارد المائية في وطننا العراق؟

- ج/ 1) **نهر دجلة:** ينبع من المرتفعات الواقعة في جنوب شرق تركيا ويدخل الاراضي العراقية عند قرية فيشخابور, تصب فيه عدة روافد من الجانب الايسر هي (الخابور, الزاب الكبير, الزاب الصغير, العظيم, ديالى) ويلتقي بنهر الفرات في القرنة شمال البصرة ليكونا شط العرب.
- ج/ 2) **نهر الفرات:** ينبع من المرتفعات الواقعة في جنوب شرق تركيا ويدخل الاراضي العراقية عند مدينة القائم في محافظة الانبار ويستمر جريانه باتجاه الجنوب الشرقي حتى يلتقي بنهر دجلة في القرنة شمال البصرة ليكونا شط العرب.
- ج/ 3) **شط العرب:** يتكون من التقاء نهري دجلة والفرات ويبلغ طوله 180 كم وعرضه 2 كم.
- ج/ 4) **موارد مائية اخرى:** وتشمل البحيرات مثل بحيرة الثرثار والحبانية ورزازة ودوكان . كذلك وجود الاهوار والمستنقعات التي تعد من المحميات الطبيعية في وطننا العراق.

س/ ماذا نستفاد من البحيرات؟

- ج/ 1) خزن المياه
- ج/ 2) مناطق سياحية جميلة

تعريف

القرنة: هي مدينة تقع شمال محافظة البصرة يلتقي فيها نهري دجلة والفرات ليكونا شط العرب.

فيشخابور: هي قرية في العراق يدخل فيها نهر دجلة قادماً من تركيا.

الخابور/ الزاب الاعلى/ الزاب الاسفل/ العظيم/ ديالى: هي روافد تصب من الجانب الايسر بنهر دجلة.

الثرثار/ الحبانية/ دوكان/ الرزازة: هي بحيرات موجودة في وطننا العراق تستخدم لخرن المياه وتمثل مناطق سياحية جميلة.

مشاكل المياه

س/ ماهي مشاكل المياه التي يواجهها وطننا العراق؟

ج/

1. **عوامل طبيعية:** تتمثل بتناقص كميات المياه بسبب قلة تساقط الامطار وزيادة التبخر بسبب ارتفاع درجات الحرارة.
2. **عوامل بشرية:** انشاء الدول المجاورة العديد من السدود على الانهار لاسيما نهري دجلة والفرات مما ادى الى قلة كمياتها.

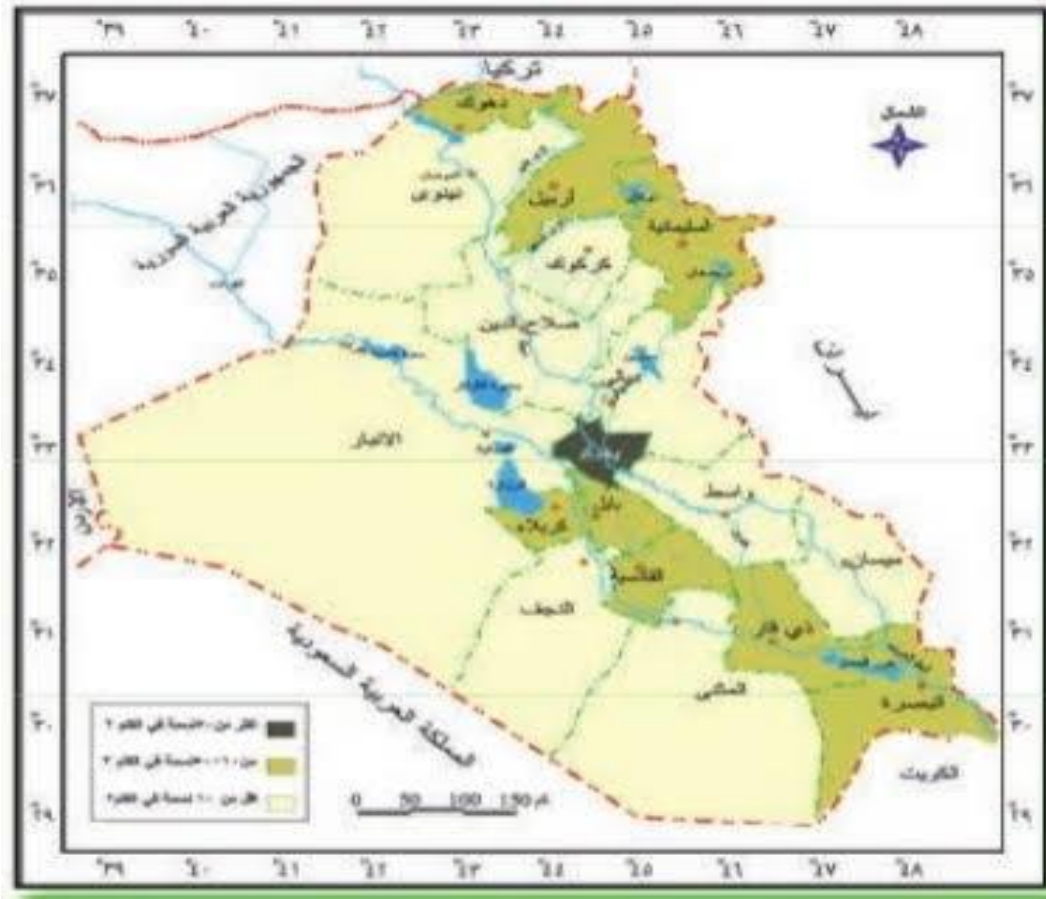
س/ ماهي الحلول الواجب اتباعها للمحافظة على المياه؟

ج/

1. ترشيد استهلاك المياه وعدم الاسراف والتبذير لأنها نعمة من الله ويجب المحافظة عليها كونها اساس الحياة لجميع الكائنات الحية.
2. المحافظة على الانهار والبحيرات وعدم القاء النفايات فيها لكي لا تتعرض للتلوث.
3. عدم سقي الحدائق والمزروعات بالمياه الصالحة للشرب واستخدام الوسائل الصحية في عملية السقي.



ثانياً: الظواهر البشرية والنشاط الاقتصادي

السكان

خريطة رقم (14): توزيع الكثافة السكانية في العراق

س/ عدد السكان في وطننا العراق ثابت ام متغير؟ ج/ متغير

توزيع السكان: يقصد به توزيع السكان على مناطق العراق وهناك عوامل تؤثر في توزيعه منها طبيعية واخرى بشرية.

س/ ماهي اسباب زيادة عدد السكان؟

ج/

(1) التقدم والتطور الصحي الذي قلل معدلات الوفيات

(2) زيادة اعداد الولادات

س/ لماذا يتركز سكان وطننا العراق في مناطق السهول ومناطق ضفاف الانهار(السهل الرسوبي)؟

ج/ وذلك بسبب:

1. انبساط الارض
2. ارضها ملائمة للزراعة
3. وجود مصادر مائية
4. وجود ثروات اقتصادية

الزراعة

علل/ تحتل الزراعة مساحة واسعة في النشاط الاقتصادي لوطننا العراق؟

ج/ لأنها توفر المواد الغذائية الضرورية للسكان كما توفر المواد الاولية التي تدخل في الصناعة.

س/ كيف نستفيد من الاراضي الزراعية؟

- ج/ 1) توفير المياه
- 2) التربة الخصبة
- 3) توفير المكننة الحديثة في الزراعة

س/ اذكر اهم المحاصيل الزراعية؟

ج/ القمح والشعير, الرز, الذرة, التمور, القطن, التبغ, قصب السكر, الفواكه والخضروات.

الثروة الحيوانية

س/ للثروة الحيوانية اهمية كبيرة في حياتنا؟

ج/ لأنها توفر الغذاء الرئيسي للسكان كالحوم والحليب والبيض كما تدخل بعض منتجاتها في الصناعة كالصناعات الجلدية والاسمدة.

س/ اذكر انواع الثروة الحيوانية في وطننا العراق؟

ج/ الاغنام والابقار والماعز والجاموس والجمال وحيوانات الركوب والدواجن والاسماك التي تنتشر في جميع محافظات العراق.

الثروات المعدنية والنفط

يحتوي وطننا العراق على العديد من الموارد المعدنية تتوزع على جميع اراضي العراق ومن اهمها:

(1) النفط: يحتل العراق مرتبة متقدمة في انتاج احتياطي النفط في العالم وتتوزع حقوله في اغلب المحافظات وتقسم الى ثلاثة اقسام:

- أ- الحقول الشمالية: وتشمل بابا كركر وباي حسن وجمبور وعين زالة وبطمة والقيارة.
- ب- الحقول الجنوبية: وتشمل حقول الرميثة والزبير وحقول الفكة ومجنون.
- ت- الحقول الوسطى: وتشمل حقول الاحدب وبدرة ونفط خانة.

س/ ماهي الصناعات التي يدخل فيها النفط؟

ج/ صناعة التكرير للحصول على مشتقات النفط كالبنزين والغاز الطبيعي والنفط الابيض وزيت الغاز.

س/ اين تنتشر مصافي النفط في وطننا العراق؟

ج/

1. مصفى الدورة في بغداد
2. مصفى البصرة
3. مصفى بيجي في صلاح الدين

(2) الغاز الطبيعي: يتوزع في الحقول القريبة من النفط يدخل في الصناعات الكيماوية والبتروكيماوية فضلاً عن استعمالاته في الحياة اليومية.

(3) الكبريت: هو من المعادن المهمة ويدخل في صناعة الاسمدة والادوية والورق وتقع مناطق انتاجه في محافظة نينوى.

حقل المشراق: وهو من اهم حقول الكبريت في وطننا العراق.

(4) الفوسفات: هو معدن مهم يدخل في صناعة الاسمدة الفوسفاتية وتقع مناطق انتاجه في الهضبة الغربية في منطقة عكاشات.

(5) معادن اخرى: كالحديد والنحاس والزنبق وغيرها.

الصناعة

س/ ما اسباب تنوع الصناعة في وطننا العراق؟

ج/ بسبب توفر المواد الاولية والايدي العاملة ورأس المال.

س/اذكر اهم الصناعات المتوفرة في وطننا العراق؟

ج/ الصناعات الغذائية, الصناعات الانتشائية, الصناعات المعدنية, الصناعات الكيماوية, الصناعات الكهربائية, صناعة الغزل والنسيج, الصناعات الدوائية.



جانب من الزراعة في وطننا العراق جانب من الثروة الحيوانية في وطننا العراق



جانب من حقول النفط في وطننا العراق جانب من الصناعات في وطننا العراق

وسائط النقل وطرقه

تعريف وسائط النقل

هي الوسيلة التي نستخدمها للتنقل سواء لمسافات قصيرة بواسطة السيارات والقطار او مسافات طويلة بواسطة الطائرات والسفن.



(1) **الطرق البرية:** وتشمل طرق السيارات والسكك الحديدية وتنتشر في اغلب محافظات العراق من اجل خدمة المواطنين في جميع المدن والقرى المارة بها.

(2) **الطرق المائية:** وتقسم الى قسمين:

أ- **النقل المائية الداخلية:** تشمل الطرق النهرية وتضم نهري دجلة والفرات وشط العرب.

ب- **النقل المائية الخارجية:** تكون خارج حدود العراق وتستخدم الطرق البحرية ولها اهمية كبيرة في التجارة اذ يصدر العراق من خلالها منتجاته النفطية وغيرها الى اغلب دول العالم.

ميناء ام قصر / المعقل / البصرة: هي موانئ عراقية مطلة على الخليج العربي يصدر ويستورد عن طريقها البضائع.

(3) **الطرق الجوية:** بسبب اهمية موقع وطننا العراق والتطور الكبير تم انشاء العديد من المطارات لمواكبة التطور العالمي.

مطار بغداد/ اربيل/ البصرة/ النجف الاشرف: هي من اهم المطارات في وطننا العراق تم انشائها لتسهيل عملية النقل من والى العراق.

السياحة والاصطياف

السياحة: هي قيام الناس بارتياح مناطق اثرية او تاريخية او مصايف لاجل الراحة والاستجمام.

س/ **تنوعت السياحة في وطننا العراق؟**

ج/ بسبب التاريخ الحضاري الطويل لوطننا العراق بمختلف محافظاتة (بغداد, سامراء, نينوى, اربيل, بابل, ذي قار, واسط).

المصايف: هي اماكن ذات جو جميل يذهب اليها الناس لاجل الراحة والاستجمام خصوصاً في فصل الصيف.

اهم مصايف وطننا العراق:

1. صلاح الدين
2. سولاف
3. بيخال
4. شقلاوة
5. دوكان
6. الحبانية

السياحة الدينية: وتعني زيادة المواقع الدينية والاماكن المقدسة في وطننا العراق وتعتبر مورداً اقتصادياً مهماً وتنتشر في بغداد وكربلاء والنجف الاشرف وسامراء وغيرها.

النظم هو نداء لسموم
الخرافات
أتم سميت



حل اسئلة الفصل الثاني

س1/ ضع كلمة (صح) امام العبارة الصحيحة وكلمة (خطأ) امام العبارة الخاطئة:

(1) تشكل منطقة السهل الرسوبي حوالي 22% من مساحة العراق الكلية. خطأ, 24%

(2) يرمز اللون البني في الخريطة الى المنطقة الجبلية. صح

(3) تقع المنطقة المتموجة الى شمال المنطقة الجبلية. خطأ, جنوبها

(4) يعد الطابع الصحراوي من اهم الظواهر الطبيعية المميزة للهضبة الغربية. صح

(5) تنتشر الاهوار في الاقسام الشمالية من العراق. خطأ, جنوبها

(6) يتركز سقوط الامطار في وطننا العراق في فصل الصيف. خطأ, فصل الشتاء

(7) تنتشر حقول الكبريت في محافظة واسط. خطأ, محافظة نينوى

س2/ املأ الفراغات الاتية بما يناسبها:

(1) تشكل منطقة الهضبة الغربية حوالي 55% من مساحة وطننا العراق.

(2) تعد سلسلة جبال حصاروست اعلى سلسلة جبلية في العراق وتعد قمة جبل هلكرد اعلى قممها.

(3) من اهم الصناعات التي يشتهر بها وطننا العراق هي الغذائية و الانشائية.

(4) تنتشر في المنطقة الجبلية العديد من السهول اهمها سهل رانية و سهل السندي.

(5) من الروافد التي تصب في نهر دجلة هي الخابور و الزاب الاسفل و الزاب الاعلى.

(6) تشمل مصادر المياه في وطننا العراق الامطار والتلوج و المياه السطحية و المياه الجوفية.

س3/ اذكر بنقاط اهمية النبات الطبيعي؟ راجع الملزمة.

س4/ ماهي الحلول الواجب اتباعها للمحافظة على المياه؟ راجع الملزمة.

س5/ نشاط يترك للطالب.

س6/ اذكر باختصار اهم حقول النفط في العراق؟ راجع الملزمة.

س7/ عدد اهم طرق النقل المائية في العراق واذكر اهم الموانئ؟ راجع الملزمة.

تعريف

- ✚ **بيجي:** احد مصافي النفط الذي يقع في صلاح الدين.
- ✚ **القيارة:** مصفى نفطي يقع في الموصل.
- ✚ **البردي:** هو نبات طبيعي ينمو في ضفاف الانهار.
- ✚ **بابا كركر:** اهم حقل نفطي يقع في شمال العراق.
- ✚ **الدورة:** من اهم مصافي النفط في بغداد.
- ✚ **الرميلة:** اهم حقول النفط في جنوب وطننا العراق.

تعاليل

1) يتنوع النبات الطبيعي في وطننا العراق؟

ج/ بسبب تنوع التضاريس والمناخ.

2) اغلب اراضي وطننا العراق صالحة للزراعة؟

ج/ بسبب خصوبة التربة ووفرة المياه.

3) وجود النباتات الشوكية في الهضبة الغربية؟

ج/ بسبب مناخها الصحراوي الجاف وقدرة هذه النباتات على مقاومة الجفاف.

4) انتشار السياحة الدينية في وطننا العراق؟

ج/ لوجود المواقع الدينية والعتبات المقدسة في اكثر محافظات العراق.

5) كثرة الغابات في المناطق الجبلية؟

ج/ بسبب غزارة الامطار وكثرة المياه الجوفية.

6) تعتبر الفوسفات من المعادن المهمة؟

ج/ لأنها تدخل في صناعة الاسمدة الفوسفاتية.

7) توزع السكان بشكل غير متساوي في جميع اجزائه؟

ج/ بسبب اختلاف السطح وتوزيع مصادر المياه.

8) زيادة اعداد السكان في وطننا العراق؟

ج/ بسبب التحسن الكبير في الوضع الصحي والثقافي.

ليس الجمال بالتواجب
ترونتنا... لان الجمال جمال
العلم والادب



الوحدة الثانية

التاريخ

الحضارة الأكديّة



تمثال رأس ملك اكدي

الحضارة السومرية



القيثارة السومرية

الحضارة الآشورية



الثور المجنح

الحضارة البابلية



برج بابل



خريطة بلاد الرافدين

الفصل الاول

تاريخنا... حضارتنا... هويتنا

أولاً/ بلاد الرافدين وطني

س/ ماهي الاسماء التي عرف بها وطننا العراق عبر العصور التاريخية؟

ج/ عرف وطننا العراق بعدة اسماء وهي:

- بلاد الرافدين:، ارض بابل، بلاد ما بين النهرين: هي اسماء عرف بها وطننا العراق عبر العصور المختلفة من تاريخه.
- ارض السواد: هي تسمية اطلقت على وطننا العراق في العصور الاسلامية بسبب كثافة زراعته وكثرة خضرته.

علل/ سمي وطننا العراق عبر العصور الاسلامية بأرض السواد؟

ج/ بسبب كثافة زراعته وكثرة خصوبته.

- بلاد سومر: اطلق على الجزء الجنوبي من وطننا العراق في العصر السومري.
- بلاد آشور: اطلق على الجزء الشمالي من وطننا العراق في العصر الأشوري.
- أكد: تسمية اطلقت على الجزء الاوسط والجنوبي في وطننا العراق.

علل/ اطلق على وطننا العراق اسم بلاد الرافدين؟

ج/ لوجود نهر دجلة والفرات الخالدين على مر العصور.

س/ استوطن الانسان العراقي بلاد الرافدين بشكل تاريخي وحضاري؟ وضح ذلك.

ج/ ان ارضه خصبه وصالحة للزراعة اغرت الانسان العراقي القديم على الاستيطان فيها من اقدم الازمان و انتاج حضارات عديدة على تلك الارض (الحضارة السومرية، الحضارة البابلية، الحضارة الأكديّة، الحضارة الأشورية، والحضارة الاسلامية) حتى وقتنا الحاضر.

نشاط رقم 1 صفحة 44

انظر الى خريطة بلاد الرافدين واكمل الجمل التالية:

- 1) يسمى الجزء الجنوبي من العراق قديماً بلاد سومر.
- 2) يسمى الجزء الشمالي من العراق قديماً بلاد آشور.
- 3) اطلق على وسط وجنوب العراق في العصور الاسلامية ارض السواد لكثافة زراعته وكثرة خصوبته.
- 4) الحضارات العراقية القديمة هي السومرية و الاكديّة و البابلية و الاشورية.
- 5) عرف وطننا العراق عبر العصور التاريخية بعدة اسماء منها ارض بابل و بلاد الرافدين.

نشاط رقم 2 صفحة 44

اكتب ثلاث اسطر فقط عن احد العناوين التالية:

بلاد ما بين النهرين: هي تسمية تطلق على المناطق التي يجري بهما نهري نهري دجلة والفرات وروافدهما.

نشاط رقم 3 + 4 صفحة 44

يتترك للطالب

ثانياً/ العراقيون اول من اخترع الكتابة والتدوين


س/ ماهي الاسباب التي دعت الى اختراع الكتابة من قبل سكان العراق القدماء؟

ج/ عندما دعت الحاجة الى ايجاد وسيلة لتدوين وارادات المعابد واملاكها وبذلك خطى العراقيون القدماء اولى خطواتهم في ميدان الحضارة الانسانية.

الرقم الطينية: هي لوحات قصيرة من الطين الطري استخدمها الانسان العراقي القديم من اجل الكتابة عليها ويكتب على الوجه الصقيل منها بواسطة نوع من القلم مثلث الرأس.



الرقم الطينية



الكتابة
المسمارية

الكتابة المسمارية: هي اول كتابة عرفها الانسان في التاريخ اخترعها العراقيون تكتب على الواح من الطين بقلم مدبب رأسه يشبه المسامير.

علل/ سميت الكتابة المسمارية بهذا الاسم؟

ج/ لان الاقلام التي تكتب فيها رؤوسها تشبه رؤوس المسامير.

الاختام الاسطوانية: هي عبارة عن

اسطوانة مصنوعة من الحجر يتراوح طولها بين 2-3.5 سم منقوشة بصورة معكوسة اذا دحرج على الطين هو طري يترك طبعة الصورة الاصلية.

الاختام الاسطوانية

س/ ماذا كانوا ينقشون على الاختام الاسطوانية؟

ج/ كان يحفر عليها منظر فيه مجموعات من الالهة او البشر أو الحيوانات وقد يكتب صاحب الختم والقباه عليها وتعلق بخيط حول الرقبة او المعصم كذلك ينحتون عليها مناظر فنية جميلة جعل البعض من سكان بلاد الرافدين يستخدمونها كحلي مع الاحجار الكريمة لتصبح جزءاً من القلائد والاساور.

نشاط رقم 1 صفحة 46

بماذا تذكرنا اثار بابل واثار آشور, اكتب ثلاثة اسطر عنها:

ج/ تذكرنا بمدى عبقرية وقوة الانسان العراقي وحبه لبلده العراق في التطور والتقدم من خلال اختراعه لما يحتاجه في حياته اليومية.

ثالثاً/ العراق مهد القوانين والتشريعات

س/ ماهي ابرز صفات حضارة بلاد الرافدين؟

ج/ ابتكارهم للشرائع والقوانين التي تعد من اقدم الشرائع في التاريخ الانساني والتي شملت كل نواحي الحياة الاقتصادية والسياسية والاجتماعية والدينية.

س/ على ماذا اكدت تشريعات وقوانين بلاد الرافدين؟

ج/ (1) وجود مجتمع مزدهر ومنظم يسوده النظام والقانون.

(2) احترام العراقيون القدماء للطقوس الدينية وعبادة الالهة.

(3) الايمان بقيم العدالة وحماية الضعفاء واحترام المرأة والطفولة.

شريعة الملك حمورابي: وهي القوانين التي اصدرها الملك حمورابي والمؤلفة من (282) مادة قانونية والتي تعتبر من اشهر الشرائع باللغة البابلية والخط المسماري.

س/ ماهي ابرز واهم القوانين التي كتبت في مسلة حمورابي؟

ج/ (1) نشر العدل ومكافحة الفساد. (2) القضاء على الشر والعش.

(3) منع القوي من اضطهاد الضعيف. (4) السعي لخير الشعب ورفاهيته.

(5) معاقبة من يسرق اموال المعابد او اموال المدينة (المال العام) بأشد العقوبات.

(6) فرض غرامات كبيرة على السراق تصل الى ثلاثين ضعفاً من قيمة الاموال المسروقة.



الملك حمورابي يقف أمام إله الشمس في القسم الأعلى من مسلته المعروفة (نسخة
جس من متحف الشرق الأدنى في برلين)

س/ ماذا يوجد في القسم الاعلى من مسلة حمورابي؟

ج/ يوجد نحت بارز يظهر فيه الملك حمورابي وهو يقف امام اله الشمس (وهو اله العدالة) بخضوع يستقبل منه الشرائع ورموز العدل.

**حمورابي يتسلم
الشرائع من اله
الشمس**

نشاط رقم 1 صفحة 48

تعد قوانين حمورابي من انضج واكمل القوانين العراقية القديمة. ناقش ذلك بإشراف المعلم.

ج/ تعد من انضج القوانين لأنها تمثل إرثاً وطنياً وهو جزء مهم من العطاء الذي قدمته امتنا للحضارة الانسانية على صعيد الفكر والقانون وبناء الدولة وتنظيم العلاقات الاجتماعية واحترام حقوق الانسان حتى وقتنا الحاضر.

نشاط رقم 2, 3, 4 صفحة 48

يترك للطالب



حمورابي: هو ملك بابلي كتب اول شريعة مؤلفة من (282) مادة قانونية على مسلة من الحجر الاسود باللغة البابلية والخط المسماري هدفها نشر العدالة والمساواة.

شمس: هو اله العدالة عند السومريين وقف امامه حمورابي ليتسلم منه الشرائع.

مسلة حمورابي**رابعاً: بلادنا مهد الديانات والمعابد**

س/ تعد بلادنا من اقدم البلدان التي ظهرت على أرضها الديانات. وضح ذلك؟

ج/ حيث انشأت المعابد المقدسة لعبادة الالهة في كل مداخل تاريخها القديم وهذا يعكس ازدهار الحياة الدينية لسكان بلاد الرافدين وايمانهم العميق بالتعاليم الدينية.

الزقورات: هي معابد تقام على اماكن مرتفعة لحمايتها من الفيضانات المتكررة ويتم الصعود اليها بواسطة سلالم عريضة مبنية من الطابوق ذي الحجم الكبير.

س/ ماذا اصبحت المعابد لسكان العراق القديم؟

ج/ 1) مركز القرية او المدينة في العراق القديم.

2) مدار الحياة الدينية والاقتصادية والاجتماعية.

س/ ماهي انواع المعابد, اذكرها بالتفصيل؟


ج/ 1) المعابد الكبيرة (معابد الدولة): وتتميز بسعة مساحتها وتعدد غرفها ووجود عدد كبير من الكهنة والعمال الذين يعملون فيها.

2) المعابد الصغيرة: وتكون مساحتها لاتتعدى مساحة البيت العادي ويعبد فيها اله واحد فقط.

3) المنادي: هي بيوت العبادة لطائفة الصابئة المندائيين وتتكون من القصب والطين وتقام على ضفاف الانهر لإقامة الطقوس والمراسيم الدينية وتعد الديانة المندائية من اقدم الديانات التوحيدية التي انتشرت في جنوب العراق.



الهة عراقية قديمة



زقورة اور

س/ كم عدد المعابد في مدينة بابل؟

ج/ 153 معبد كبير ومنها معبد اله الشمس.

س/ سكن الصابئة قرب ضفاف الانهار؟

ج/ بسبب معتقداتهم الدينية.

س/ ماهي مميزات المعابد في العبادة؟

ج/

(1) تمتلك مساحات واسعة من الاراضي الزراعية التي يعمل فيها المئات من الفلاحين والصناع.

(2) تمتلك عدداً من المحلات التي تستخدم للصناعات اليدوية الضرورية لحياة المعبد.

(3) كانت المعابد مراكز للعمل والانتاج والتعليم.



حل اسئلة الفصل الاول

س1/ صل كل جملة بما يناسبها من الجمل المقابلة:

- (1) العراق ← هبة الرافدين دجلة والفرات.
- (2) على ارض بابل ← قامت الحضارة البابلية.
- (3) اشهر الحضارات العراقية القديمة ← السومرية والبابلية.
- (4) عرف وسط العراق وجنوبه قديماً ← ببلاد سومر واكد.

س2/ اكمل ما يأتي:

- (1) العراقيون اول من اخترع الكتابة والتدوين.
- (2) نستفيد من الكتابة في تدوين احداث تاريخنا والحفاظ على تراثنا.
- (3) استخدم العراقيون القدماء الحجر بدلاً من الورق في كتابة اخبارهم.
- (4) سميت بالكتابة المسمارية لان شكل القلم يشبه المسمار.
- (5) ابتكر العراقيون القدماء الاختام الاسطوانية لتكون اختاماً خاصة بهم تحمل اسمائهم والقابهم.

س3/ أكدت شريعة الملك حمورابي على:

- (1) نشر العدل ومكافحة الفساد
- (2) القضاء على الشر والغش
- (3) منع القوي من اضطهاد الضعيف
- (4) السعي لخير الشعب ورفاهه

س4/ نشاط يترك للطالب

س5/ علل ما يأتي:

1) يوجد في المدن العراقية القديمة عدد كبير من المعابد؟

ج/ لازدهار الحياة الدينية وايمانهم العميق بالتعاليم الدينية.

2) يشتغل عدد كبير من العمال والفلاحين في المعابد العراقية القديمة؟

ج/ لكبر مساحتها واعدادها الكبيرة وتوفير سبل استمرار الحياة.

3) بنى العراقيون القدماء معابدهم في اماكن مرتفعة (الزقورات)؟

ج/ لحمايتها من الفيضانات المتكررة.

4) ماهي اماكن العبادة لكل مكون من مكونات الشعب العراقي؟

ج/

العراقيين القدماء

الصابئة المندائيين

المسيحيين

المسلمين



المعابد



المنادي



الكنائس



المساجد



الفصل الثاني

العراق حاضرة الخلافة الاسلامية

س/ اصبح العراق مقراً للخلافة الاسلامية مرتين, ناقش ذلك؟

- ج/ 1) الاولى عندما اتخذ الامام علي ابن ابي طالب (عليه السلام) الكوفة عاصمة لهم في عصر الخلفاء الراشدين (رض).
- 2) الثانية في عصر خلافة العباسيين الذين جعلوا كلاً من مدينة وسامراء عاصمة له.

اولاً/ الكوفة عاصمة للخلافة الاسلامية سنة (36- 41 هجرية)

الكوفة: هي من الامصار (المدن) الاسلامية التي اسسها العرب خارج شبه الجزيرة العربية بنيت في سنة 17 هجرية على يد القائد سعد بن ابي وقاص.

س/ سميت الكوفة بهذا الاسم؟

- ج/ 1) مأخوذة من صفات تربتها وهي ان كل رمل يخالطه حصى فهو (كوفة).
- 2) نسبة الى مرتفع صغير يقع في وسطها يقال له (كوفان)
- 3) استدارتها او اجتماع الناس فيها.

موقعها: تقع الى الغرب من نهر الفرات, لا تبعد كثيراً عن مدينة الحيرة عاصمة دولة المناذرة وعلى طرف الصحراء.

س/ ماهي اهمية موقع الكوفة؟

س/ بنيت الكوفة على طرف الصحراء؟

- ج/ 1) تأمين طرق المواصلات والامدادات اليها.
- 2) تتوفر الظروف المناخية والصحية الجيدة.
- 3) مياهها صالحة للشرب لقرب نهر الفرات منها.

س/ من هم سكان مدينة الكوفة؟

ج/ سكنها المسلمون وبنوا مسجدها الجامع ودار الامارة وبيت المال والاسواق.

الخطط: تسمية اطلقت على المحلات التي خصت لكل قبيلة عربية في مدينة الكوفة.

س/ متى ازدهرت مدينة الكوفة؟

ج/ ازدهرت مدينة الكوفة بعد اتخاذها الامام علي ابن ابي طالب (عليه السلام) عاصمة لخلافته سنة 36 هجرية واتخذ من جامعها الكبير حيث كان يدير الدولة العربية الاسلامية واشتهرت بمكانتها العلمية.

مدرسة الكوفة: هي مدرسة نحوية للغة العربية انشأت في الكوفة.

الخط الكوفي: هو نوع من انواع الخط العربي سمي باسم مدينة الكوفة.

س/ ماهي مميزات مدينة الكوفة؟

س/ وضح اهمية مدينة الكوفة؟

ج/ 1) إضافة الكثير الى الحضارة الاسلامية من نحو عربي وخطوط.

2) انجبت العديد من العلماء والمحدثين والفقهاء والقراء والوعاظ والادباء والشعراء.

3) تضم اضرحة للعديد من اولياء الله الصالحين.

دار الامارة: هي مكان ادارة الحكم في الكوفة.

بيت المال: هو مكان جمع الاموال الاسلامية وتوزيعها على الفقراء والمحتاجين والامور المتعلقة بالدولة.

الامصار: هي تسمية تطلق على المدن الاسلامية خارج شبه الجزيرة العربية ومنها الكوفة.

كوفان: هو مرتفع صغير يقع وسط الكوفة يقال ان تسميتها تنسب اليه.



مسجد الكوفة

ثانياً: بغداد حاضرة الخلافة العباسية

س/ ماهي العوامل التي دفعت العباسيين لاختيار بغداد عاصمة لهم؟

س/ لماذا اتخذ العباسيين بغداد عاصمة لهم؟

ج/ 1) موقعها وسط العراق على نهر دجلة الذي يوفر المياه الصالحة للشرب ولإرواء الاراضي الزراعية.

2) موقعها على ملتقى الطرق التجارية الدولية.

3) تأمين مكان للجند العباسيين.

4) اعتدال الظروف المناخية فيها.

تسميتها/ ارجعها بعض الباحثين الى اصل بابلي او ارامي كما سميت بمدينة السلام والمدينة المدورة.

مدينة السلام: السلام هو الله عز وجل فهي مدينة الله وكذلك اسم لنهر دجلة.

المدينة المدورة: اطلق على مدينة بغداد في فترة العباسيين لأنها اتخذت شكلاً دائرياً واحيطت بسور خارجي واخر داخلي واربعة ابواب هي:

باب الكوفة, باب البصرة, باب خراسان, باب الشام.

علل/ سميت بغداد في عهد العباسيين بالمدينة المدورة؟

ج/ لأنها اتخذت شكلاً دائرياً.

س/ اصبحت بغداد اول مدينة عربية شكلها دائري؟

ج/ لعوامل سياسية وعسكرية.

ال خليفة المنصور: هو خليفة عباسي اول من باشر ببناء مدينة بغداد سنة 145 هجرية على الجانب الغربي لنهر دجلة.

علل/ تطورت مدينة بغداد بسرعة فائقة؟

س/ لماذا تطورت مدينة بغداد بسرعة؟

ج/ بسبب نموها السكاني وهجرة الناس اليها وكثرة اسواقها كما انها عاصمة للخلافة؟



قصر الخلد: هو القصر الذي شيده الخليفة المنصور في بغداد ليكون مقراً له.

الرصافة: هي منطقة تقع الى الجانب الشرقي من (المدينة المدورة) على الجانب الشرقي من نهر دجلة.

مخطط مدينة بغداد المدورة

المسجد الجامع: هو المسجد الذي شيده وقت الخليفة المنصور من اجل اقامة صلاة الجمعة.

س/ ماذا اصبحت تضم الرصافة بعد توسيعها؟

ج/ 1) ثلاثة مساجد جامعة.

2) العديد من المدارس.

3) العديد من الاسواق.

4) القصور.

المهدي ابن الخليفة المنصور: اتخذ من الرصافة معسكراً لجنده سنة 152 هجرية وبعدها قام ببناء المساكن واستمر في البناء لسنة 157 هجرية.

سوق الثلاثاء: اعظم اسواق بغداد التاريخية في جانب الرصافة يعقد في اول الثلاثاء من كل شهر.

مرقد الامامين الجوادين (عليهم السلام): يعتبر من الاضرحة المقدسة للأئمة الاطهار يقع في الكاظمية (مقبرة قريش).

مرقد الامام الاعظم ابو حنيفة النعمان (رض): يعتبر من الاولياء الصالحين ويقع في الاكظمية (مقابر الخيزوان).

علل/ اختيرت بغداد عاصمة للثقافة العربية سنة 2013 م؟

ج/ بسبب الارث الحضاري العظيم لمعشوقتنا بغداد.

س/ عدد اهم الاماكن الموجودة في بغداد؟

ج/ 1) مرقد الامامين الجوادين(عليهم السلام)

2) مرقد الامام ابو حنيفة النعمان(رض)

3) المدرسة المستنصرية

الانشطة صفحة 59

نشاط يترك للطالب

ثالثاً/ مدينة سامراء عاصمة اخرى للخلافة العباسية

الخليفة المعتصم العباسي: هو الخليفة الذي اتخذ مدينة سامراء عاصمة له ومقرّاً لجنده سنة 221 هجرية.

س/ ماهي الاعمال التي قام بها الخليفة المعتصم في مدينة سامراء؟

ج/ 1) بناء القصور والدور.

2) جلب البنائين الماهرين والفنيين لبنائها.

3) شراء الاشجار المثمرة من جميع البلدان وزراعتها في سامراء.

4) تشييد المساجد ودواوين الدولة والاسواق والشوارع.

5) اقام جسراً يربط جانبها الشرقي بجانبها الغربي.

س/ كم استغرق بناء مدينة سامراء؟

ج/ استغرق بنائها مدة تتراوح من سنتين الى ثلاثة سنوات.

موقعها: تقع في منطقة تسمى (القاطول) نسبة الى نهر يحمل الاسم نفسه يتفرع من نهر دجلة.

القاطول: هو اسم منطقة في سامراء القديمة يوجد فيها نهر يحمل الاسم نفسه يتفرع من نهر دجلة.

س/ سميت سامراء بهذا الاسم؟

ج/ نسبة الى حصن سوميرا الذي شيد في الحقبة الساسانية لحمايتها من هجمات الاعداء.

س/ لماذا سميت سامراء (سر من رأى)؟ ج/ يقال ان الخليفة المعتصم سر هو وجده برؤيتها.

استحداثها: تعتبر سنة 223 هجرية بداية حياة سامراء كعاصمة للدولة العباسية.

القطيعة: هي تسمية تطلق على احياء سامراء القديمة خصص كل واحد منها بجماعة معينة من اتباع الخليفة المعتصم.

قصورها وجوامعها:

س/ بماذا يشير البناء من قصور وجوامع والملوية في سامراء؟

ج/ يشير الى مهارة البنائين المعماريين العراقيين الرائعة في ميدان الهندسة المعمارية وتخطيط المدن.

الجوسق/ العاشق/ المعشوق: هي من اشهر القصور التي تم بنائها في سامراء.

المسجد الجامع ومئذنة الملوية: هو بناء تم تشييده في سامراء وهي مخروطية الشكل تقوم على قاعدة مربعة تتكون من خمسة ادوار يتم الصعود الى قمته بصورة معاكسة لدوران الساعة ويبلغ ارتفاعها 52 متر.

المعتمد بالله: هو الخليفة العباسي الذي ترك سامراء وعاد الى بغداد سنة 278 هجرية.

س/ كم بقيت سامراء عاصمة للخلافة العباسية؟

ج/ بقيت حوالي (58) عام حكم خلالها ثمانية من خلفاء بني العباس.

المئذنة الملوية



اضرحتها المقدسة: تضم سامراء ضريحي الامامين العسكريين (عليهما السلام)، الامام علي الهادي المتوفي سنة 254 هجرية والامام الحسن العسكري المتوفي سنة 260 هجرية وهي من الاضرحة المقدسة عند المسلمين وتعتبر القبة الموجودة على الضريحين من اكبر قبة في العالم الاسلامي.

حل اسئلة الفصل الثاني

س1/ صل كل جملة بما يناسبها مما يقابلها:

- (1) اول من خطط لبناء الكوفة ← سعد بن ابي وقاص.
 - (2) اتخذ الامام علي (عليه السلام) الكوفة مقراً لخلافته ← سنة 36 هجرية.
 - (3) سميت بأرض كوفان ← نسبة الى مرتفع صغير يقع في وسطها.
 - (4) بنيت الكوفة ← سنة 17 هجرية.
 - (5) عاصمة دولة المناذرة ← الحيرة.
 - (6) ان عاصمة الثقافة العربية لسنة 2013 هي ← بغداد.
- س2/ جميع التعاريف موجودة في الملزمة.
- س3/ اكمل الجمل الآتية:
- (1) باشر الخليفة المنصور ببناء بغداد سنة 145 للهجرة وانتهى من بنائها سنة 149 للهجرة.
 - (2) كان سوق الثلاثاء من اعظم اسواق بغداد.
 - (3) بنى الخليفة المنصور قصره المسمى قصر الخلد في بغداد.
 - (4) تضم مدينة بغداد المراقد المقدسة من اشهرها الامامين الجوادين و ابو حنيفة النعمان.
 - (5) يحتوي سور بغداد على اربعة ابواب هي الكوفة و البصرة و خراسان و الشام.
 - (6) اختيرت بغداد عاصمة للثقافة العربية سنة 2013 م.
 - (7) تضم مدينة سامراء ضريحي الامامين العسكريين (عليهما السلام) علي الهادي و الحسن العسكري.
 - (8) من اهم شوارع سامراء العباسية شارع الخليج بمحاذاة نهر دجلة.

- (9) من اشهر آثار سامراء المسجد الجامع ومئذنة الملوية.
- (10) استمرت سامراء عاصمة للخلافة العباسية مدة 58 سنة.
- (11) كان اخر الخلفاء العباسيين الذين تركوا سامراء هو المعتمد بالله سنة 278 للهجرة.
- (12) بغداد ام الدنيا وسيدة البلاد ومدينة السلام.

فكل بلاد جادها العلم ازدهرت

ربها وصارت تثبت الغز لا العشب



الفصل الثالث

العراق ... موطن العلم والعلماء

س/ ماهي اشهر المدارس ودور العلم في العراق؟

(1) المدرسة النظامية (2) المدرسة المستنصرية

(3) بيت الحكمة (4) دور العلم

أولاً/ المدرسة النظامية

س/ من اين اشتق اسم المدرسة النظامية؟ , س/ من هو مؤسس المدرسة النظامية؟

ج/ اشتق اسمها من اسم مؤسسها الوزير السلجوقي (نظام الملك الطوسي) وهي من اولى المدارس في بغداد والعالم اكتمل بنائها في سنة 459 هجرية.

س/ ماذا كانت تضم المدرسة النظامية؟

ج/ (1) مساكن للطلاب والاساتذة (2) قاعات للدرس

(3) عين لها المدراء(النظار) والمشرفون والكتاب

س/ كيف كانت طريقة الدراسة في المدرسة النظامية؟

ج/ كانت الدراسة فيها على شكل حلقات يرأس كل حلقة احد الفقهاء وتدرس فيها المواد العلمية المعروفة كعلوم القرآن والحديث الشريف والفقه وعلم الكلام والنحو وغيرها.

س/ كيف كانوا يتعاملون مع الطلاب في المدرسة النظامية؟

ج/ (1) يسكنون ويتناولون فيها الطعام مجاناً.

(2) يتعودون على الطاعة والنظام ضمن مناهج الدراسة.

(3) يطبقون قوانين الدولة بنزاهة وامانة.

مكتبتها(خزانتها): كانت تضم زهاء ستة آلاف مجلد من امهات الكتب والمخطوطات النفسية.

ثانياً/ المدرسة المستنصرية

س/ لماذا سميت المدرسة المستنصرية بهذا الاسم؟

ج/ نسبة الى الخليفة العباسي المستنصر بالله الذي بناها سنة 631 هجرية وتعد اول جامعة اسلامية متخصصة في العالم بمفهوم الجامعة الحديث.

س/ بماذا كانت تهتم المدرسة المستنصرية؟

ج/ اهتمت بدراسة علوم القران الكريم والسنة النبوية والفقه وعلوم اللغة العربية وعلم الطب والرياضيات والفرائض والتركات ومنافع الحيوان.

س/ ماذا ضمت المدرسة المستنصرية من دور وكليات؟

ج/ ضمنت اربع دور (كليات) هي:

(1) دار القران الكريم (2) دار السنة النبوية الشريفة

(3) دار الفقه (4) دار الطب

س/ بماذا تميزت المدرسة المستنصرية عن غيرها من المدارس؟

ج/ تميزت بأمرين مهمين هما:

(1) دفع الرواتب النقدية او العينية الشهرية واليومية الى الطلاب والمدرسين والموظفين وكانت تضاعف لهم في شهر رمضان.

(2) تأسيس (حمام) للاغتسال لخدمة جميع الطلاب والعاملين فيها وهو عمل لم يسبقه مثيل من قبل.

س/ كيف كانوا يختارون الطلاب في المدرسة المستنصرية؟

ج/ كان يتم اختيارهم من الفقهاء والناهبين ممن لديهم الكفاءة العلمية سواء التأليف او النقاش وكان عدد الطلبة لا يتجاوز (300) طالب.

س/ كيف يتم انتقاء المدرسين للمدرسة المستنصرية؟

ج/ كانوا يختارون انتقاء كبار المدرسين والشيوخ من العراق والبلدان الاسلامية المجاورة من الذين عرفوا بالبحث وألّفوا العديد من الكتب للتدريس فيها.



س/ ماذا ضمنت المدرسة المستنصرية؟

- ج/ 1) مستشفى تعليمي لتعلم الطب ومعالجة المرضى مجاناً.
- 2) خزانة كتب عامرة بأنواع الكتب.
- 3) مساكن للطلبة والمدرسين (الاقسام الداخلية) ويتناولون الطعام في مطبخها مجاناً.

المدرسة
المستنصرية

ثالثاً/ بيت الحكمة ودور العلم

بيت الحكمة: هي احدى المؤسسات العلمية والثقافية المهمة التي تأسست في مدينة بغداد منذ ان شيدها الخليفة العباسي ابو جعفر المنصور سنة 145 هجرية.

س/ وضح بالتفصيل مراحل تطور بيت الحكمة؟

المرحلة الاولى: تمثل مرحلة انشاؤها من قبل الخليفة ابو جعفر المنصور الذي يمتلك مكتبة(خزانة) مهمة تحتوي على الكتب الفلسفية والطبية وعلوم الهندسة والفلك وغيرها.

المرحلة الثانية: اهتم بها الخليفة هارون الرشيد لتصبح مؤسسة للبحث العلمي والتأليف والترجمة وصارت تضم عدة اقسام يشرف عليها مترجمون ونساخون ومجلدون وحفظة للكتب.

المرحلة الثالثة: في خلافة المأمون تطورت هذه الخزانة(المكتبة) وتحولت من خزانة للكتب الى مراكز للبحث العلمي والترجمة والتأليف سمي (بيت الحكمة) والحقت بنيته بأحد قصور الخلفاء, وكانت تشتمل على مكتبة خاصة تضم نفائس المخطوطات وغرف للبحث والتأليف والترجمة واخرى للخدمات والقرطاسية.

يوحنا بن مأسويه: هو مسيحي يعد من اشهر المترجمين الذين اشرفوا على ترجمة الكتب الطبية من اللغات الاجنبية الى اللغات العربية.

الفضل بن نوبخت: هو مترجم اشرف على ترجمة الكتب من اللغة الفارسية الى اللغة العربية.

دار الحكمة: هو مكان للبحث العلمي اسسه الفاطميون بالقاهرة وكان شبيهاً لبيت الحكمة في بغداد.

س/ لماذا انتشرت في المدن العراقية دور العلم في العصر العباسي؟

ج/ لان بغداد اصبحت منارةً للعلم والابداع العلمي والفكري.

جعفر بن حمدان: اسس داراً للعلم في الموصل سنة 333 هجرية وجلب كتباً من جميع العلوم والمعارف وجعلها وفقاً لطلبة العلم.

الوزير سابور بن اردشير: اسس دار للعلم في بغداد سنة 383 هجرية في جانب الرصافة على غرار بيت الحكمة وضمت اكثر من عشرة الاف كتاب ومجلد من بينهما عدد من نسخ القران الكريم بخط اشهر الخطاطين العراقيين.

ابو علي بن سوار: الكاتب الذي انشأ دار للعلم في البصرة سنة 372 هجرية واتخذها مركزاً للقراءة والبحث.

س/ ماذا كان يجري في دار العلم؟

ج/ كانت تجري مناظرات علمية يحضرها العلماء والشعراء والادباء من مختلف مناطق الدولة العربية الاسلامية.

نشاط 2+1 صفحة 7 يترك للطالب



شعار بيت الحكمة
المعاصر



خزائن الكتب القديمة

رابعاً علماء عراقيون

(1) ابو الأسود الدؤلي


هو ظالم بن عمرو الكناني قريشي النسب توفي في محافظة البصرة سنو 69 هجرية.

ابرز اعماله:

(1) اول من وضع قواعد النحو العربي في البصرة بعد ان رسم له الامام علي بن ابي طالب (عليه السلام) شيئاً من اصوله.

(2) اول من نقط المصحف الشريف.

(3) يعد من الشعراء الكبار وله ديوان شعر.



(2) جابر بن حيان

هو واضع علم الكيمياء وتتلذ على يد الامام جعفر الصادق (عليه السلام) توفي بحدود سنة 200 هجرية.

علم الكيمياء في
الفترة الاسلامية

اهم اعماله:

(1) اعتمد على المنهج التجريبي واكد على ان (التجربة اساس كمال صفة الكيمياء).

(2) ترك الكثير من المؤلفات المشهورة في علم الكيمياء من اشهرها الميزان والايضاح الذي تكلم فيه عن المعادن وخواصها.

س/ ماهي اهم انجازات جابر بن حيان؟

ج/ (1) تحضير طلاء يمنع صدأ الحديد.

(2) صناعة ورق غير قابل للاحتراق.

(3) صبغ الجلود والشعر واستخدام الشب لتثبيت الالوان.

(3) ابو اسحاق الصابي

هو ابراهيم بن سنان بن ثابت بن قره الصابي وهو من الصابئة المندائيين ولد في بغداد وتوفي فيها سنة 335 هجرية.

س/ ماهي اهم اعمال ابو اسحاق الصابي؟

ج/ 1) اشتغل بالطب والهندسة والفاك.

2) كتب ثلاثة عشر كتاباً ومقالاً.

3) من اشهر كتبه (رسالة في الاسطرلاب).



**الاسطرلاب****(4) المسعودي**

هو ابو الحسن علي ابن الحسين يتصل نسبه بالصحابي الجليل عبدالله بن مسعود الاسلامي، ولد في بغداد وتوفي سنة 346 هجرية ويعتبر من المؤرخين والرحالة.

س/ ماهي ابرز كتب المسعودي؟

ج/ 1) كتاب (مروج الذهب ومعادن الجوهر).

2) كتاب (التنبيه والإشراف).



كتاب مروج الذهب ومعادن الجوهر وكتاب التنبيه والإشراف للمسعودي

(5) الحسن بن الهيثم البصري

ولد في البصرة ونشأ فيها وتوفي سنة 430 هجرية.

س/ ماهي اهم اعمال ابن الهيثم؟

ج/ (1) يعد من اشهر علماء البصريات في عصره.

(2) درس المرايا وانواعها وله ابحاث في امتزاج الالوان.

(3) الف كتاب المناظر.

(4) شرح عن تشريح العين عند الانسان وانقسامها وانعكاس الضوء عليها وعن (قوس قزح).



تشریح العين
عند ابن الهيثم

(6) الراوية شهد بنت الابري البغدادي

وهي الملقبة بفخر النساء ولدت في بغداد ونشأت فيها درست على يد علمائها الافاضل , والدها من مشاهير علماء بغداد ومحدثها توفيت في بغداد سنة 574 هجرية وهي من اشهر راويات الحديث منة النساء ومعروفة بجودة الخط العربي.

✚ واصل العراقيون عطائهم العلمي والفكري في تاريخهم المعاصر حيث ابدع الكثير من ابناء العراق في حقول المعرفة المختلفة ففي ميدان الشعر ظهر العديد من الشعراء الذين اغنوا الشعر العربي بقصائدهم التي عبرت عن امال وهموم ووجدان ابناء وطنهم.

من اهمهم:

محمد مهدي الجواهري: وهو شاعر عراقي بل شاعر العرب الاكبر تغنى في بغداد ونهره الخالد في غربته.

للاطلاع

حييت' سفحك عن بعد فحيني **يادجلة الخير يام البساتين**



محمد مهدي الجواهري

بدر شاكر السياب/ نازك الملائكة/ سركون بولص/ الكردي عبدالله كوران: هم شعراء عراقيون القوا العديد من القصائد التي تغنوا فيها بحبهم للوطن والحنين لأرض العراق.

العلامة الدكتور (عبدالجبار عبدالله): وهو من ابناء طائفة الصابئة المندائيين واحد اشهر علماء الفيزياء والانواء الجوية في العالم, درس في اميركا ونال شهادته العليا فيها وهو اول رئيس لجامعة بغداد بعد ثورة 14 تموز عام 1958 م.

- الاب انستاس الكرمللي ← عالم عراقي في اللغة العربية
- الدكتور مصطفى جواد ← مؤرخ لغوي
- كمال السامرائي ← الطبيب الدكتور
- محمد امين زكي ← مؤرخ كردي
- د. علي الوردي ← عالم اجتماع
- د. حسين علي محفوظ ← العلامة الموسوعي
- زها حديد ← المعمارية

الفنان النحات جواد سليم: وهو من اشهر النحاتين في تاريخ العراق المعاصر ينحدر من عائلة فنية انجبت العديد من الفنانين التشكيليين, اسس جماعة الفن الحديث ومن ابرز اعماله نصب الحرية القائم في ساحة التحرير ببغداد.

س/ ماذا يمثل نصب الحرية في بغداد؟

ج/ يمثل كفاح الشعب العراقي من اجل الحرية والتخلص من قيود التخلف عبر مراحل التاريخ.



نصب الحرية في بغداد

يترك للطالب

نشاط 3+2+1 صفحة 77 بالكتاب

حل اسئلة الفصل الثالث

س/ صل كل كلمة بما يناسبها من الجمل المقابلة لها:

- (1) **ضمنت المدرسة المستنصرية** ← اربعة دور (كليات) متخصصة.
- (2) **الحقت بالمدرسة المستنصرية** ← مساكن للطلبة والمدرسين (الاقسام الداخلية).
- (3) **ان مؤسس المدرسة النظامية** ← الوزير السلجوقي نظام الملك الطوسي.
- (4) **افتتحت المدرسة المستنصرية** ← سنة 631 هجرية.
- (5) **تأسس حمام في المدرسة المستنصرية** ← دليل الاهتمام بالنظافة الشخصية.
- (6) **اول من وضع اسس النحو العربي** ← ابو الاسود الدؤلي.
- (7) **صمم نصب الحرية في بغداد** ← جواد سليم.
- (8) **مؤلف كتاب مروج الذهب ومعادن الجوهر** ← المسعودي.
- (9) **واضع علم الكيمياء** ← جابر بن حيان
- (10) **اول رئيس لجامعة بغداد في العهد الجمهوري** ← الدكتور عبدالجبار عبدالله.

س2/ اكمل الجمل الآتية:

- (1) لم يتجاوز عدد الطلبة في الجامعة المستنصرية 300 طالباً.
- (2) ان الخليفة العباسي الذي بنى المدرسة المستنصرية هو المستنصر بالله العباسي.
- (3) كان المدراء في المدرسة النظامية يسمون بـ النظار.
- (4) اكتمل بناء المدرسة المستنصرية سنة 459 هجرية.
- (5) الجامعة المستنصرية في بغداد سميت تيمناً بإسم المدرسة المستنصرية.
- (6) كان من اشهر المترجمين في العلوم الطبية بيت الحكمة هو يوحنا بن ماسويه.
- (7) شهدت خزانة بيت الحكمة تطور كبير في زمن الخليفة المأمون.

8) بالإضافة لبيت الحكمة في بغداد تأسس دار العلم في الموصل.

9) خزانة الكتب تعني اليوم المكتبة.

10) كانت تجري في دار علم سابور مناظر علمية يحضرها العلماء والشعراء والادباء.

س3/ اربط السنوات الاتية بالأحداث التي وقعت فيها:

- | | |
|--|---------------------|
| شيد الخليفة ابو جعفر المنصور بغداد. | 1) في سنة 145 هجرية |
| اسس جعفر بن حمدان دار العلم في الموصل. | 2) في سنة 333 هجرية |
| انشأ الكاتب ابو علي بن سوار دار العلم في البصرة. | 3) في سنة 372 هجرية |
| اسس الوزير سابور بن اردشير دار العلم في بغداد. | 4) في سنة 383 هجرية |
| توفي ابن الهيثم. | 5) في سنة 430 هجرية |

س4/ ماهو الشعر؟ وهل تحبه؟ هل تعرف اسماء شاعرات عراقيات اخريات؟

الشعر: هو كلام موزون ومرتب ومقفى يختلف عن الكلام المنشور الذي يستخدمه الناس في مخاطباتهم.

تعريف اخر: هو الكلام (المخيل) اي الكلام الذي ينشأ من مخيلة الشاعر ويؤثر في مخيلة متلقي الشعر.

هل تحبه؟ نعم

اسماء الشاعرات الاخريات: زهور دكسن, رباب الكاظمي, بشرى البستاني, أليس الألوسي وغيرهم.

س5/ يترك للطالب

س6/ انسب العلماء الى العلم الذي اشتهروا به:

عالم اجتماع

علي الوردي

الطبيب الدكتور

كمال السامرائي



المعمارية زها
حديد



العلامة الموسوي

حسين علي محفوظ

شاعرة عراقية

نازك الملائكة

فنان نحات

جواد سليم

مؤرخ كردي

محمد امين زكي

مؤرخ ولغوي

مصطفى جواد

العلامة الدكتور

عبدالجبار عبدالله

عالم عراقي في اللغة العربية

انستاس الكرمللي

معمارية

زها حديد:

شاعر عراقي

محمد مهدي الجواهري

عالم بصريات

الحسن بن الهيثم

عالم كيمياء

جابر بن حيان

عالم في الطب والهندسة والفلك

ابو اسحاق الصابي

راوية حديث وخطاطة

شهدة البغدادي

نحوي اللغة العربية وشاعر

ابو الاسود الدؤلي



الشاعر بدر
شاكر السياب

بالعلم والأخلاق
ترتقي الامم



الوحدة الثالثة

التربية الوطنية والاجتماعية





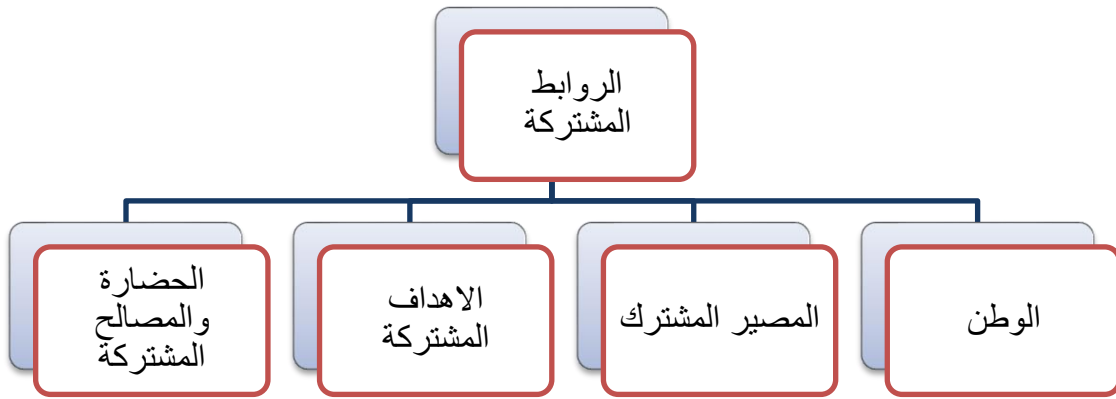
الفصل الاول

مجتمعنا العراقي

أولاً: مفهوم المجتمع

المجتمع: هي مجموعة من الافراد يعيشون على ارض معينة تربطهم روابط عدة اهمها الوطن.

الاسرة: هي احدى نواة اي مجتمع ويرتبط افرادها بروابط اجتماعية قوية وبتماسك الاسرة يمكننا تحقيق تماسك المجتمع وترابطه.



شكل (1): اهم الروابط المشتركة التي تجمع ابناء المجتمع العراقي

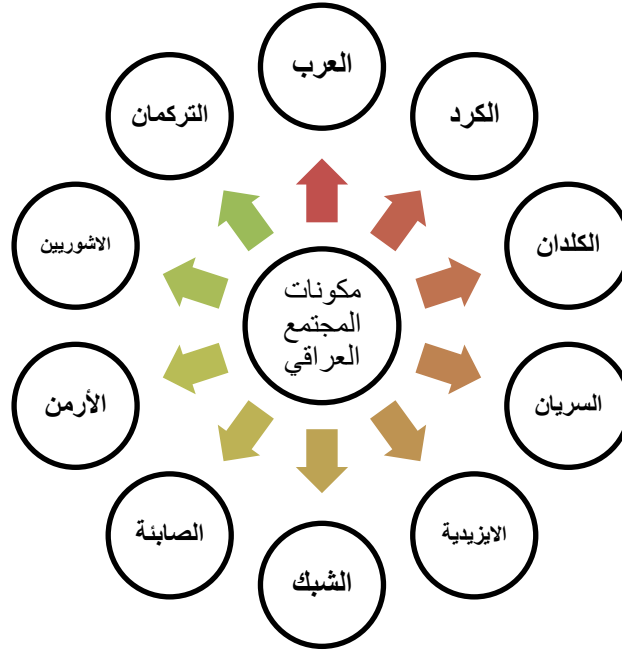
ثانياً: مجتمعنا العراقي

المجتمع العراقي: هو مجتمع متميز عن غيره من المجتمعات له عادات وتقاليد وقيم مدنية مشتركة وقد عاش ابناء المجتمع متحابين من الشمال الى الجنوب يجمعهم وطن واحد هو (العراق).

- يحق لكل فرد في المجتمع ان يمارس عاداته ومعتقداته وديانته.
- يعيش ابناء وطننا العراق سوية دون التفريق من حيث العرق والقومية و الديانة



س/ ماهي مكونات المجتمع العراقي؟

ج/ العرب/ الكرد/ التركمان/ الكلدان/ الاشوريين/ السريان/ الايزيدية/ الشبك/ الأرمن/ الصابئة, ولكل مكون منهم حقوق وعليه واجبات تجاه المجتمع والوطن تتمثل بالانتماء والتعاون والولاء ويؤمنون بجميع الحقوق والواجبات التي تجمعهم على حب الوطن واهمها المساواة والتعاون والعدالة والتضحية.



شكل (2): مكونات المجتمع العراقي

ثالثاً: الاسرة جزء من المجتمع

الاسرة احدي مكونات المجتمع الاساسية. 
 تتميز بعلاقات مترابطة فيما بينهم وكلما زاد ترابط الاسرة يؤدي الى تماسك المجتمع. 

الانشطة صفحة 84 بالكتاب

نشاط يترك للطالب

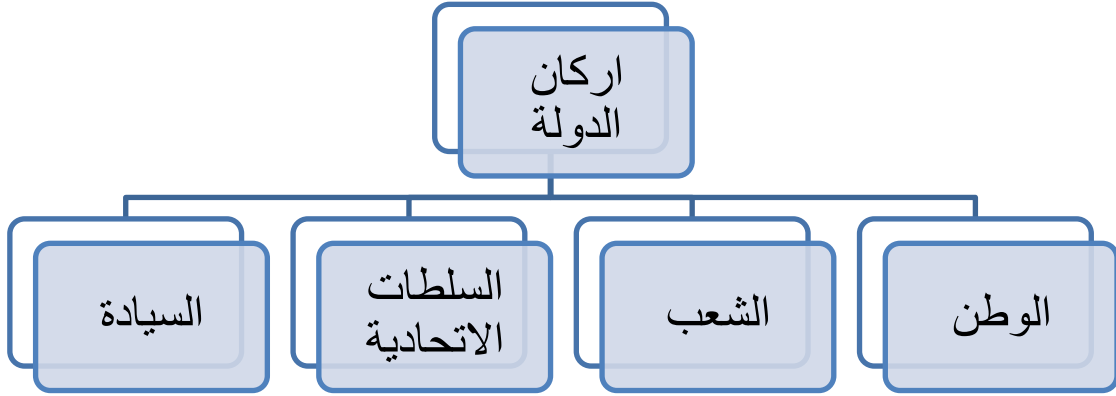
الفصل الثاني

دولتنا بين الحقوق والواجبات

أولاً: مفهوم الدولة

الدولة: هي مجموعة من المؤسسات السياسية والاجتماعية والاقتصادية والقضائية ذات علاقات منظمة و مترابطة تجمعها خدمة الوطن و افراد مجتمعه.

✚ لقيام كل دولة لابد من توافر الاركان اللازمة وهي:



شكل (3): اركان الدولة

✚ لكل دولة اسم وشعار.

اسم دولتنا: جمهورية العراق

شعارنا: النسر

س/ ماذا يرمز العلم؟

ج/ يرمز الى سيادة البلد لذلك يجب علينا ان نقف اجلالاً واحتراماً عندما يرفع علم وطننا العراق.



العلم العراقي

شعار النسر

النشيد الوطني: لكل دولة نشيدها الوطني, لذا يجب علينا ان نقف اجلاً واحتراماً عند لاستماع للنشيد الوطني.

معلومات اثرائية

العراق: دولة اتحادية ديمقراطية مستقلة ذات سيادة, يكون نظام الحكم فيها جمهوري نيابي (برلماني) ديمقراطي اتحادي.

س/ ماهي انواع السلطات في وطننا العراق؟

ج/1) **السلطة التشريعية:** هي السلطة التي تكون مهمتها سن القوانين والانظمة التي تنظم الحياة العامة وتتمثل ب(مجلس النواب).

ج/2) **السلطة التنفيذية:** هي السلطة التي تكون مهمتها تنفيذ القوانين والانظمة التي تسنها السلطة التشريعية وتتمثل ب(مجلس الوزراء).

ج/3) **السلطة القضائية:** هي سلطة تتميز بالاستقلال التام مهمتها تحقيق العدالة من خلال اصدار الاحكام وفق القانون وتتمثل ب(مجلس القضاء الاعلى).

ثانياً: المواطنة بين الحقوق والواجبات

المواطن: هو الشخص الذي يعيش على ارض الدولة ويحمل جنسيتها.

المواطن الصالح: هو المواطن الذي يحترم الانظمة والقوانين والدستور وهو عضو فعال في بناء الدولة له حقوق وامتيازات يكلفها له الدستور وعليه واجبات.

- يساهم المواطن الصالح في تطوير وطنه بخدمته بإخلاص.
- يحرص على احترام حقوق المواطنين الاخرين.

س/ ماهي صفات المواطن الصالح؟

- ج/ 1) يتفهم طبيعة قدراته وامكاناته في المجتمع لتحديد واجباته وحقوقه.
 2) يتفهم طبيعة مشكلات مجتمعه ويشارك في معالجتها.
 3) يقدر مكانة وطنه في العالم.
 4) يحترم حقوق المواطنين الاخرين ولا يتجاوز عليها.
 5) ان يكون متفوقاً ومخلصاً في واجباته تجاه وطنه.



مواطن منتج



جنود يدافعون عن الوطن

ثالثاً: حقوق وواجبات المواطن**أ- الحقوق**

اهم الخدمات التي تقدمها الدولة لأفراد المجتمع العراقي:

- 1) **التربية والتعليم:** تحرص الدولة على تقديم خدمات التربية والتعليم المجاني من خلال وزارة التربية والتعليم العالي والبحث العلمي.



من حقي ان اتعلم

(2) **الخدمات الصحية:** تقوم دولتنا بتوفير الخدمة الصحية مجاناً لأفراد المجتمع من خلال مؤسسات وزارة الصحة (مستشفيات, مستوصف, مركز الرعاية الصحية)



من حقي الرعاية الصحية

(3) **الأمن:** تسعى دولتنا لتوفير الامن للمواطن العراقي والسهر على راحته من خلال الاجهزة الامنية المتمثلة بالجيش والشرطة في وزارتي الدفاع والداخلية.



(4) **خدمات اخرى:** هنالك الكثير من الخدمات التي تقدمها الدولة للمواطنين ومنها:

- أ- خدمات النقل والمواصلات: من خلال وزارة النقل
- ب- الخدمات الاقتصادية والاجتماعية: من خلال وزارة العمل والشؤون الاجتماعية.
- ت- خدمات اخرى تقدمها باقي الوزارات: اهمها التجارة والاسكان والمالية والتخطيط والكهرباء والنفط والزراعة وغيرها.



ب- واجبات المواطن تجاه وطنه

س/ ماهي واجبات المواطن تجاه وطنه؟

- 1) حب الوطن والتضحية في سبيله.
- 2) الالتزام بالأنظمة والقوانين.
- 3) المحافظة على الممتلكات العامة.
- 4) الحفاظ على البيئة.

1) **حب الوطن والتضحية في سبيله:** كلنا نحب الوطن الذي نعيش على ارضه وتحت سمائه وجميعنا نعمل من اجل حماية الوطن ورفعته.

2) **الالتزام بالأنظمة والقوانين:** من واجبات المواطن احترام الانظمة والقوانين التي تقرها الدولة من اجل:

1. تنظيم حياة وحمايته.
2. تحقيق مبدأ العدالة والمساواة بين افراده.
3. الشعوب التي تلتزم بالأنظمة والقوانين تتقدم بشكل قوي وسريع والعكس صحيح.

3) **المحافظة على الممتلكات العامة:** من واجب المواطن المحافظة على الممتلكات العامة لأنها ملك لجميع افراد المجتمع من خلال:

- 1) عدم العبث بالأثاث المدرسي
- 2) الترشيد في استهلاك الماء والكهرباء
- 3) المحافظة على الممتلكات العامة ومنها الحدائق العامة والمتنزهات

جميع أنشطة الوحدة الثالثة

يترك للطالب

4) الحفاظ على البيئة:

البيئة: هي المكان الذي يعيش فيه الانسان وتشمل الارض التي نعيش عليها وما حولها من ماء وهواء وتراب ومخلوقات حية.

س/ ماهي المخاطر التي تهدد البيئة؟

- 1) النمو السكاني المتزايد
- 2) التطور الزراعي والصناعي
- 3) عدم الالتزام بالأنظمة والقوانين

س/ ماهي المشاكل التي تهدد حياة الانسان وتشوه منظر البيئة؟

- ج/ 1) تلوث المياه 2) تلوث الهواء 3) تلوث التربة



س/ ماهي الاسباب الرئيسية لانتشار الامراض والابوئة؟

ج/ بسبب تراكم المخلفات والنفايات بأنواعها المختلفة والتي تشكل خطراً كبيراً على الانسان وجميع الكائنات الحية.



حل اسئلة الوحدة الثانية (الفصلين الاول والثاني)

س1/ ضع كلمة صح امام العبارة الصحيحة وكلمة خطأ امام العبارة الخاطئة.

- 1) ان المجتمع العراقي يتألف من عدة مكونات. **صح**
- 2) حب الوطن من اهم القواسم المشتركة بين ابناء المجتمع العراقي. **صح**
- 3) التزام التلميذ بنظام المدرسة يدل على سلوكه الحضاري. **صح**
- 4) تسعى الدولة الى تحقيق العدل والمساواة بين افراد المجتمع العراقي.

صح

- 5) التزامك بالنظام يضمن حقوقك وحقوق الاخرين. **صح**
- 6) الدفاع عن الوطن واجب واطني مقدس. **صح**

س2/ نشاط يترك للطالب

س3/ استبدل الكلمات التي تحتها خط بكلمات مناسبة مما بين الاقواس:

(النظام, متعاونين, العامة)

- 1) الطلاب في المدرسة يتعلمون الاهمال. **النظام**
- 2) ينبغي ان يكون افراد الاسرة الواحدة متباعدون لتحقيق تماسك المجتمع. **متعاونين**
- 3) تعد الممتلكات الخاصة ملك لجميع افراد المجتمع. **العامة**
- س4/ اكمل الجمل الاتية بالكلمة الصحيحة من الكلمات التي تحت كل جملة منها:

1) يتكون المجتمع العراقي من عدة مكونات.

(مكونين – مكون واحد – عدة مكونات)

2) الجهة المسؤولة عن حفظ الامن في وطننا العراق هي الشرطة.

(الشرطة – المدرسة – المسجد)

3) اركان قيام الدولة هي اربعة اركان.

(اثنين – اربعة – ثلاثة)

4) الجهة المسؤولة عن رعاية الايتام والمسنين والارامل هي وزارة العمل والشؤون الاجتماعية.

(الداخلية – النقل والمواصلات – العمل والشؤون الاجتماعية)

بسم الله الرحمن الرحيم
وقل اعملوا فسيرى الله عملكم ورسوله والمؤمنون
صدق الله العلي العظيم

ثم بحمده تعالى

